





# COMPTAGE DES ŒUX DE PÂQUES (1)

Combien d'œufs de Pâques y a-t-il dans chaque groupe?


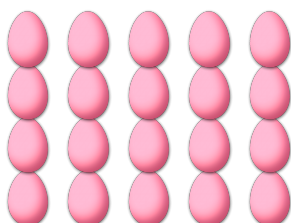
1. Il y a \_\_\_\_\_ œufs de Pâques dans le groupe ci-dessous.
2. Il y a \_\_\_\_\_ œufs de Pâques dans le groupe ci-dessous.



3. Il y a \_\_\_\_\_ œufs de Pâques dans le groupe ci-dessous.
4. Il y a \_\_\_\_\_ œufs de Pâques dans le groupe ci-dessous.




5. Il y a \_\_\_\_\_ œufs de Pâques dans le groupe ci-dessous.
6. Il y a \_\_\_\_\_ œufs de Pâques dans le groupe ci-dessous.




# COMPTAGE DES ŒUX DE PÂQUES (1) RÉPONSES

Combien d'œufs de Pâques y a-t-il dans chaque groupe?

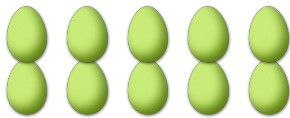
1. Il y a 30 œufs de Pâques dans le groupe ci-dessous.




2. Il y a 42 œufs de Pâques dans le groupe ci-dessous.



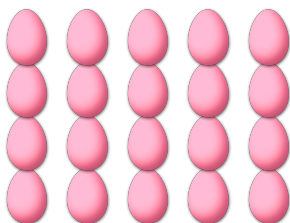
3. Il y a 10 œufs de Pâques dans le groupe ci-dessous.



4. Il y a 35 œufs de Pâques dans le groupe ci-dessous.



5. Il y a 20 œufs de Pâques dans le groupe ci-dessous.



6. Il y a 18 œufs de Pâques dans le groupe ci-dessous.

