




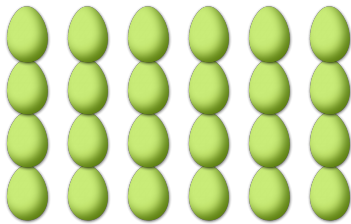
# COMPTAGE DES ŒUX DE PÂQUES (C)

Combien d'œufs de Pâques y a-t-il dans chaque groupe?

1. Il y a \_\_\_\_\_ œufs de Pâques dans le groupe ci-dessous.
2. Il y a \_\_\_\_\_ œufs de Pâques dans le groupe ci-dessous.



3. Il y a \_\_\_\_\_ œufs de Pâques dans le groupe ci-dessous.
4. Il y a \_\_\_\_\_ œufs de Pâques dans le groupe ci-dessous.



5. Il y a \_\_\_\_\_ œufs de Pâques dans le groupe ci-dessous.
6. Il y a \_\_\_\_\_ œufs de Pâques dans le groupe ci-dessous.

