

COMPTAGE DES ŒUX DE PÂQUES (A)

Combien d'œufs de Pâques y a-t-il dans chaque groupe?

1. Il y a ____ œufs de Pâques dans le groupe ci-dessous.
2. Il y a ____ œufs de Pâques dans le groupe ci-dessous.



3. Il y a ____ œufs de Pâques dans le groupe ci-dessous.
4. Il y a ____ œufs de Pâques dans le groupe ci-dessous.



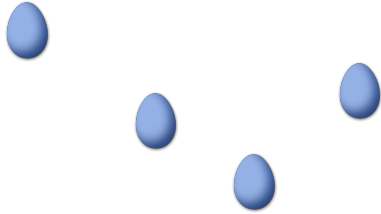
5. Il y a ____ œufs de Pâques dans le groupe ci-dessous.
6. Il y a ____ œufs de Pâques dans le groupe ci-dessous.



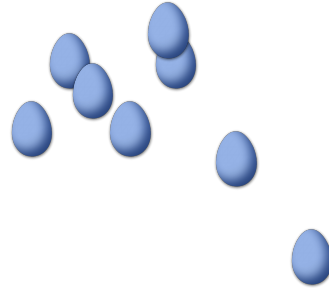
COMPTAGE DES ŒUX DE PÂQUES (A) RÉPONSES

Combien d'œufs de Pâques y a-t-il dans chaque groupe?

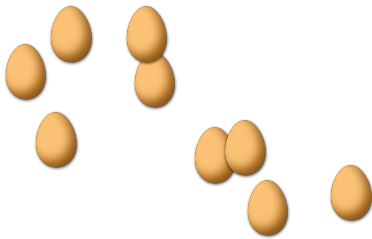
1. Il y a 4 œufs de Pâques dans le groupe ci-dessous.



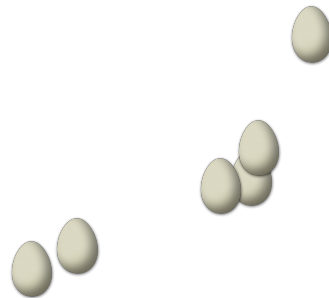
2. Il y a 8 œufs de Pâques dans le groupe ci-dessous.




3. Il y a 9 œufs de Pâques dans le groupe ci-dessous.



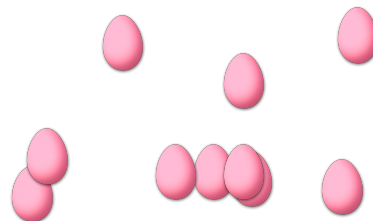
4. Il y a 6 œufs de Pâques dans le groupe ci-dessous.



5. Il y a 7 œufs de Pâques dans le groupe ci-dessous.





6. Il y a 10 œufs de Pâques dans le groupe ci-dessous.




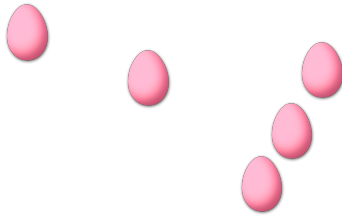
COMPTAGE DES ŒUX DE PÂQUES (B)

Combien d'œufs de Pâques y a-t-il dans chaque groupe?

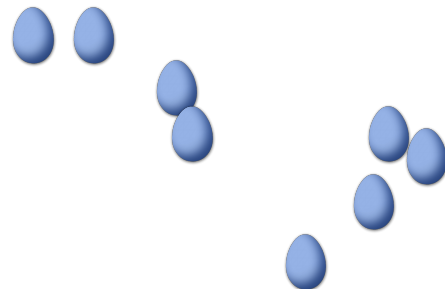
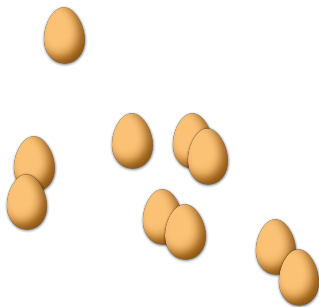
1. Il y a ____ œufs de Pâques dans le groupe ci-dessous. 2. Il y a ____ œufs de Pâques dans le groupe ci-dessous.



3. Il y a ____ œufs de Pâques dans le groupe ci-dessous. 4. Il y a ____ œufs de Pâques dans le groupe ci-dessous.




5. Il y a ____ œufs de Pâques dans le groupe ci-dessous. 6. Il y a ____ œufs de Pâques dans le groupe ci-dessous.




COMPTAGE DES ŒUX DE PÂQUES (B) RÉPONSES

Combien d'œufs de Pâques y a-t-il dans chaque groupe?

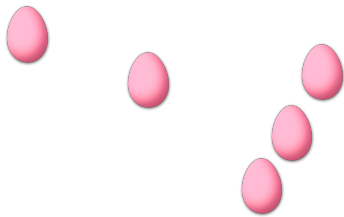
1. Il y a 5 œufs de Pâques dans le groupe ci-dessous.




2. Il y a 4 œufs de Pâques dans le groupe ci-dessous.



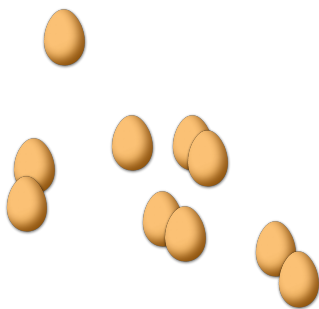
3. Il y a 5 œufs de Pâques dans le groupe ci-dessous.



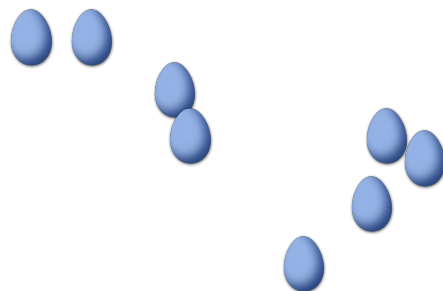
4. Il y a 7 œufs de Pâques dans le groupe ci-dessous.



5. Il y a 10 œufs de Pâques dans le groupe ci-dessous.




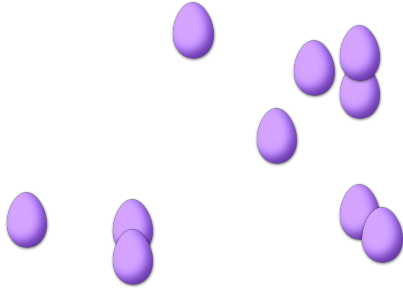
6. Il y a 8 œufs de Pâques dans le groupe ci-dessous.



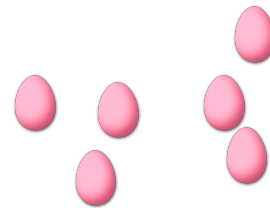
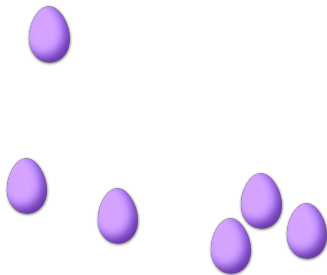
COMPTAGE DES ŒUX DE PÂQUES (C)

Combien d'œufs de Pâques y a-t-il dans chaque groupe?


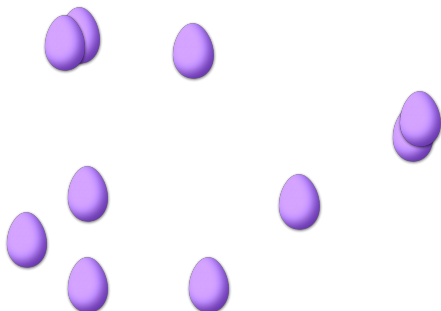
1. Il y a ____ œufs de Pâques dans le groupe ci-dessous. 2. Il y a ____ œufs de Pâques dans le groupe ci-dessous.



3. Il y a ____ œufs de Pâques dans le groupe ci-dessous. 4. Il y a ____ œufs de Pâques dans le groupe ci-dessous.




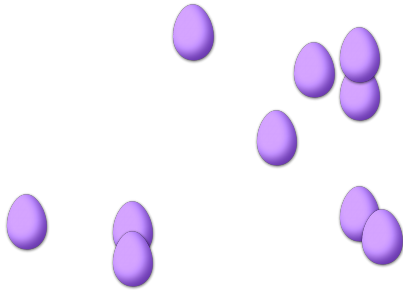
5. Il y a ____ œufs de Pâques dans le groupe ci-dessous. 6. Il y a ____ œufs de Pâques dans le groupe ci-dessous.



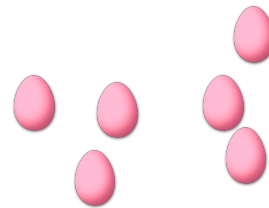
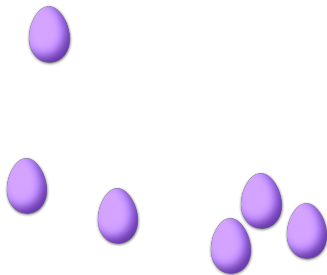
COMPTAGE DES ŒUX DE PÂQUES (C) RÉPONSES

Combien d'œufs de Pâques y a-t-il dans chaque groupe?


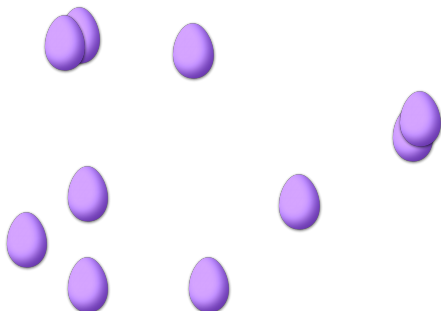
1. Il y a 10 œufs de Pâques dans le groupe ci-dessous.
2. Il y a 4 œufs de Pâques dans le groupe ci-dessous.



3. Il y a 6 œufs de Pâques dans le groupe ci-dessous.
4. Il y a 6 œufs de Pâques dans le groupe ci-dessous.



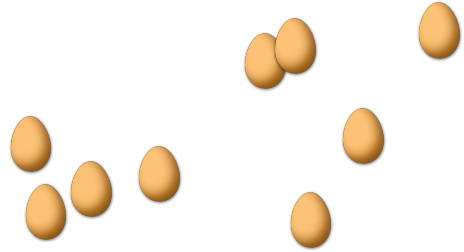
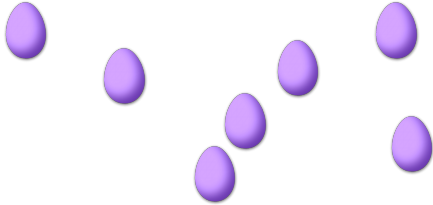
5. Il y a 10 œufs de Pâques dans le groupe ci-dessous.
6. Il y a 6 œufs de Pâques dans le groupe ci-dessous.



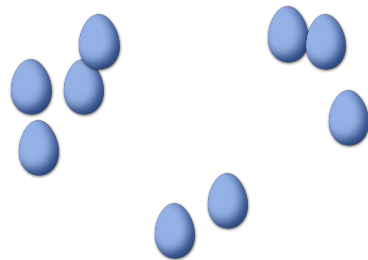

COMPTAGE DES ŒUX DE PÂQUES (D)

Combien d'œufs de Pâques y a-t-il dans chaque groupe?


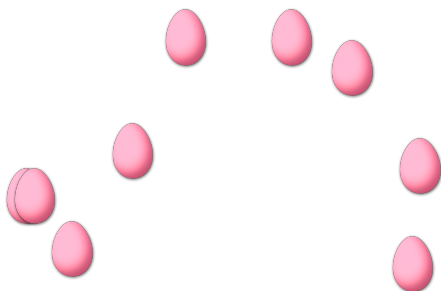
1. Il y a ____ œufs de Pâques dans le groupe ci-dessous. 2. Il y a ____ œufs de Pâques dans le groupe ci-dessous.



3. Il y a ____ œufs de Pâques dans le groupe ci-dessous. 4. Il y a ____ œufs de Pâques dans le groupe ci-dessous.



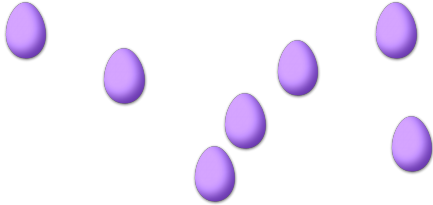
5. Il y a ____ œufs de Pâques dans le groupe ci-dessous. 6. Il y a ____ œufs de Pâques dans le groupe ci-dessous.



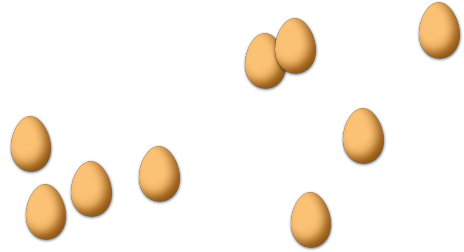
COMPTAGE DES ŒUX DE PÂQUES (D) RÉPONSES

Combien d'œufs de Pâques y a-t-il dans chaque groupe?

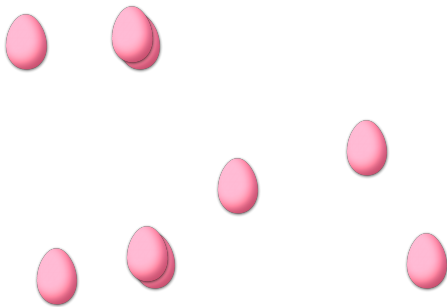
1. Il y a 7 œufs de Pâques dans le groupe ci-dessous.



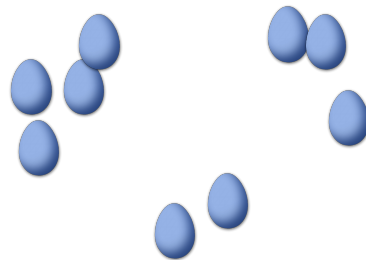
2. Il y a 9 œufs de Pâques dans le groupe ci-dessous.



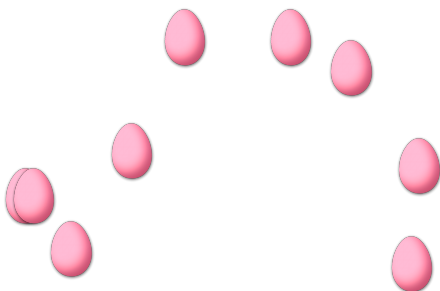
3. Il y a 9 œufs de Pâques dans le groupe ci-dessous.



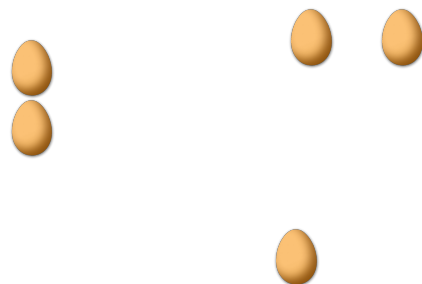
4. Il y a 9 œufs de Pâques dans le groupe ci-dessous.



5. Il y a 9 œufs de Pâques dans le groupe ci-dessous.



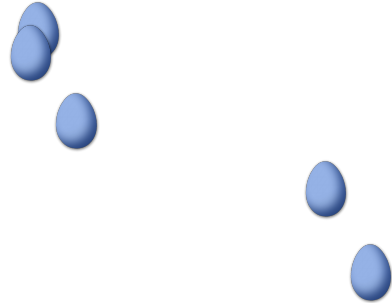
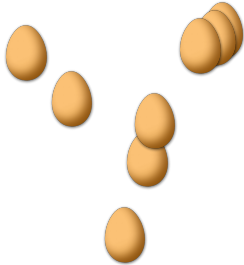
6. Il y a 5 œufs de Pâques dans le groupe ci-dessous.



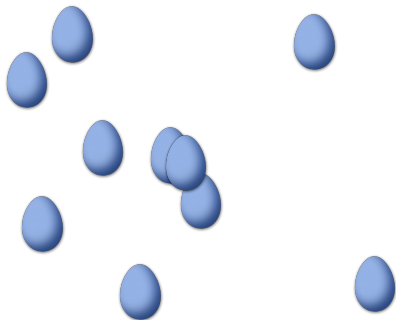
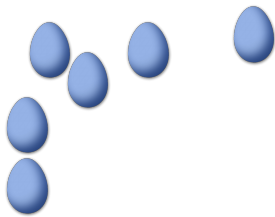
COMPTAGE DES ŒUX DE PÂQUES (E)

Combien d'œufs de Pâques y a-t-il dans chaque groupe?

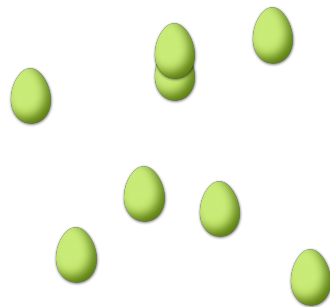
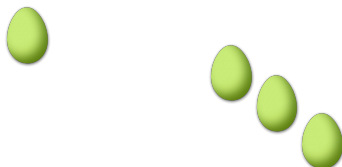
1. Il y a ____ œufs de Pâques dans le groupe ci-dessous. 2. Il y a ____ œufs de Pâques dans le groupe ci-dessous.



3. Il y a ____ œufs de Pâques dans le groupe ci-dessous. 4. Il y a ____ œufs de Pâques dans le groupe ci-dessous.



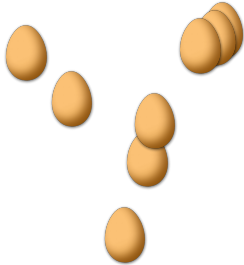
5. Il y a ____ œufs de Pâques dans le groupe ci-dessous. 6. Il y a ____ œufs de Pâques dans le groupe ci-dessous.



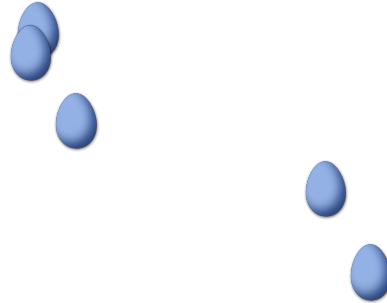
COMPTAGE DES ŒUX DE PÂQUES (E) RÉPONSES

Combien d'œufs de Pâques y a-t-il dans chaque groupe?

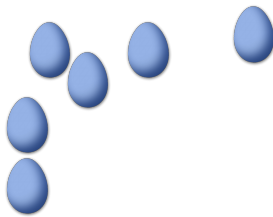
1. Il y a 8 œufs de Pâques dans le groupe ci-dessous.



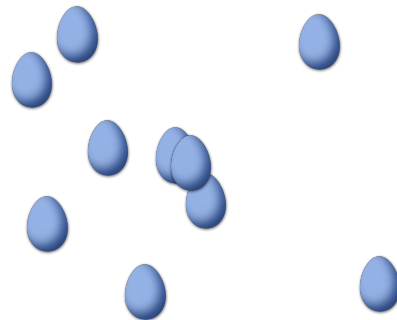
2. Il y a 5 œufs de Pâques dans le groupe ci-dessous.



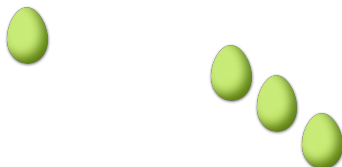
3. Il y a 6 œufs de Pâques dans le groupe ci-dessous.



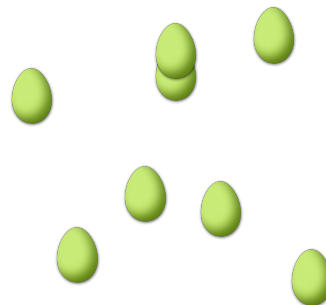
4. Il y a 10 œufs de Pâques dans le groupe ci-dessous.



5. Il y a 4 œufs de Pâques dans le groupe ci-dessous.



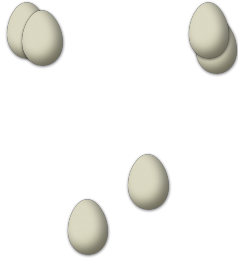
6. Il y a 8 œufs de Pâques dans le groupe ci-dessous.



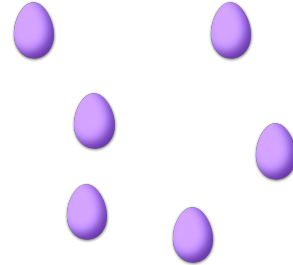
COMPTAGE DES ŒUX DE PÂQUES (F)

Combien d'œufs de Pâques y a-t-il dans chaque groupe?

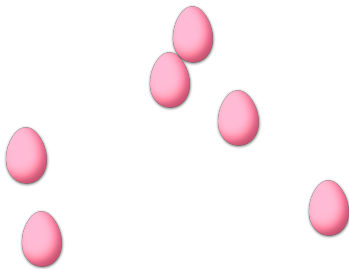
1. Il y a ____ œufs de Pâques dans le groupe ci-dessous.



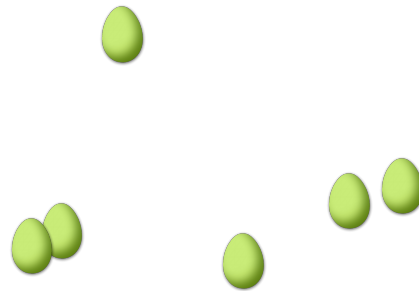
2. Il y a ____ œufs de Pâques dans le groupe ci-dessous.




3. Il y a ____ œufs de Pâques dans le groupe ci-dessous.




4. Il y a ____ œufs de Pâques dans le groupe ci-dessous.



5. Il y a ____ œufs de Pâques dans le groupe ci-dessous.



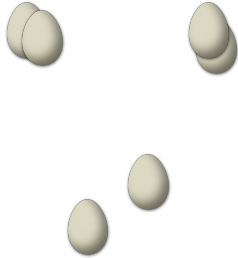
6. Il y a ____ œufs de Pâques dans le groupe ci-dessous.



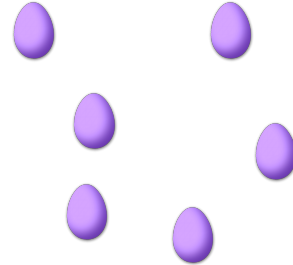
COMPTAGE DES ŒUX DE PÂQUES (F) RÉPONSES

Combien d'œufs de Pâques y a-t-il dans chaque groupe?

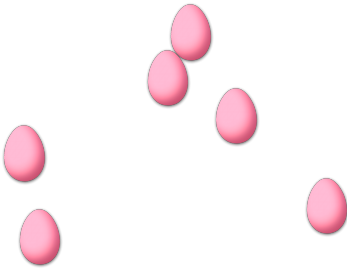
1. Il y a 6 œufs de Pâques dans le groupe ci-dessous.



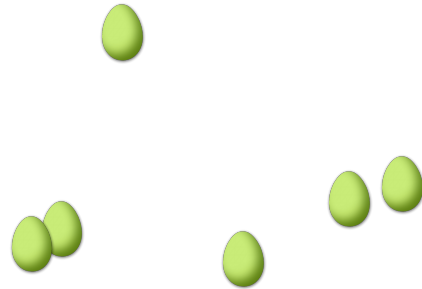
2. Il y a 6 œufs de Pâques dans le groupe ci-dessous.




3. Il y a 6 œufs de Pâques dans le groupe ci-dessous.




4. Il y a 6 œufs de Pâques dans le groupe ci-dessous.



5. Il y a 6 œufs de Pâques dans le groupe ci-dessous.



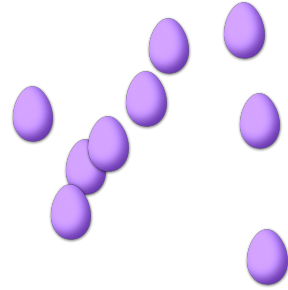
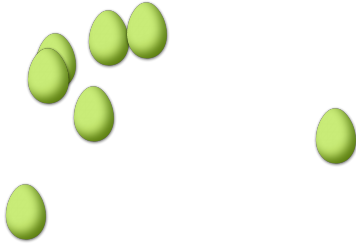
6. Il y a 9 œufs de Pâques dans le groupe ci-dessous.





COMPTAGE DES ŒUX DE PÂQUES (6)

Combien d'œufs de Pâques y a-t-il dans chaque groupe?

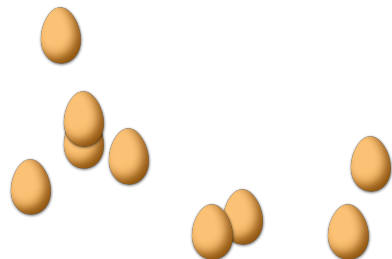
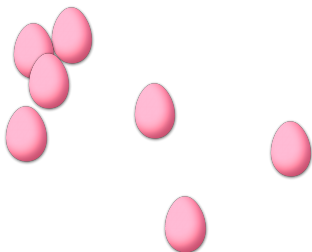
1. Il y a ____ œufs de Pâques dans le groupe ci-dessous. 2. Il y a ____ œufs de Pâques dans le groupe ci-dessous.



3. Il y a ____ œufs de Pâques dans le groupe ci-dessous. 4. Il y a ____ œufs de Pâques dans le groupe ci-dessous.




5. Il y a ____ œufs de Pâques dans le groupe ci-dessous. 6. Il y a ____ œufs de Pâques dans le groupe ci-dessous.



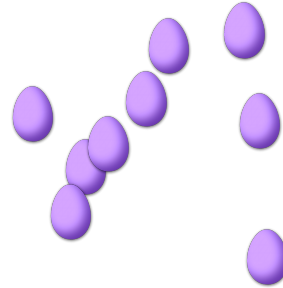
COMPTAGE DES ŒUX DE PÂQUES (G) RÉPONSES

Combien d'œufs de Pâques y a-t-il dans chaque groupe?

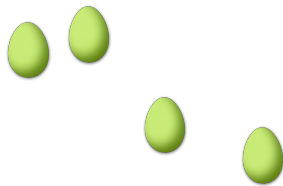
1. Il y a 7 œufs de Pâques dans le groupe ci-dessous.




2. Il y a 9 œufs de Pâques dans le groupe ci-dessous.



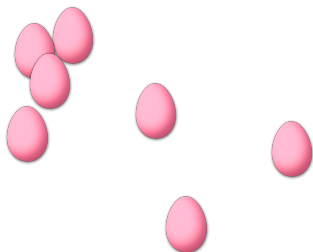
3. Il y a 4 œufs de Pâques dans le groupe ci-dessous.



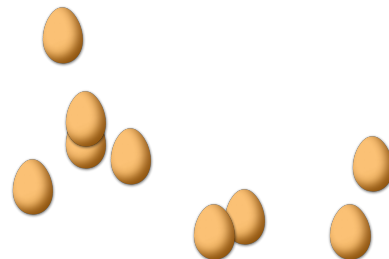
4. Il y a 5 œufs de Pâques dans le groupe ci-dessous.



5. Il y a 7 œufs de Pâques dans le groupe ci-dessous.




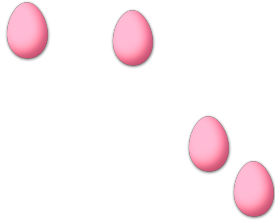
6. Il y a 9 œufs de Pâques dans le groupe ci-dessous.



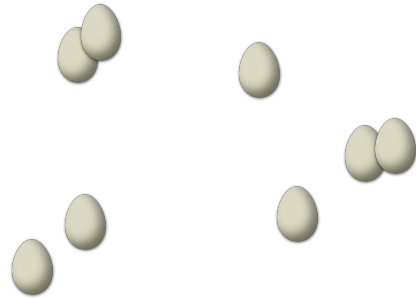

COMPTAGE DES ŒUX DE PÂQUES (1)

Combien d'œufs de Pâques y a-t-il dans chaque groupe?

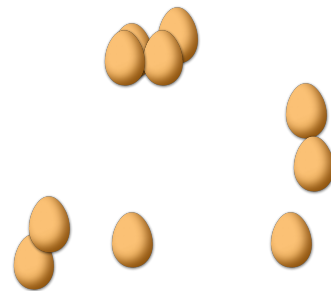
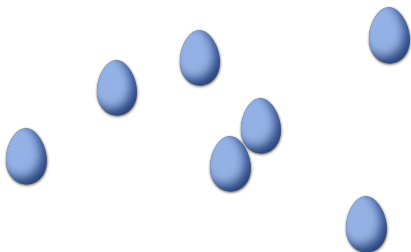
1. Il y a ____ œufs de Pâques dans le groupe ci-dessous. 2. Il y a ____ œufs de Pâques dans le groupe ci-dessous.



3. Il y a ____ œufs de Pâques dans le groupe ci-dessous. 4. Il y a ____ œufs de Pâques dans le groupe ci-dessous.



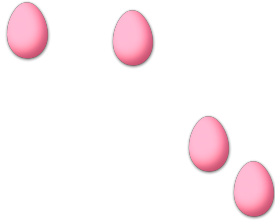
5. Il y a ____ œufs de Pâques dans le groupe ci-dessous. 6. Il y a ____ œufs de Pâques dans le groupe ci-dessous.




COMPTAGE DES ŒUX DE PÂQUES (H) RÉPONSES

Combien d'œufs de Pâques y a-t-il dans chaque groupe?


1. Il y a 4 œufs de Pâques dans le groupe ci-dessous.



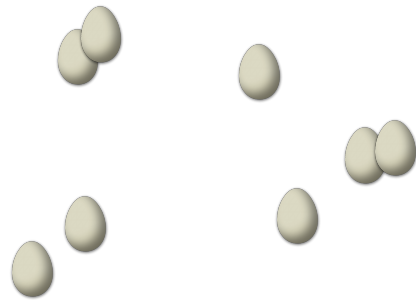
2. Il y a 5 œufs de Pâques dans le groupe ci-dessous.



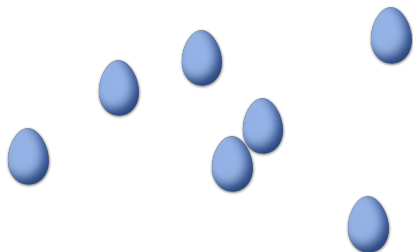
3. Il y a 7 œufs de Pâques dans le groupe ci-dessous.



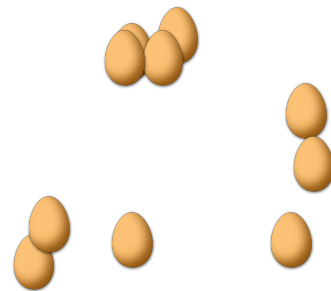
4. Il y a 8 œufs de Pâques dans le groupe ci-dessous.



5. Il y a 7 œufs de Pâques dans le groupe ci-dessous.



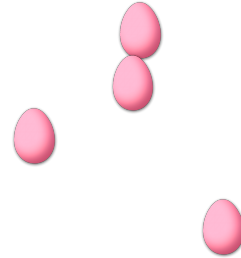
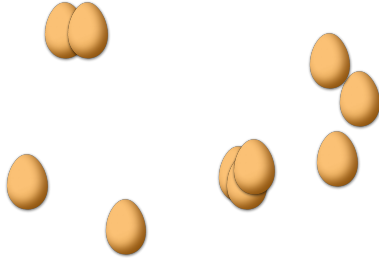
6. Il y a 10 œufs de Pâques dans le groupe ci-dessous.



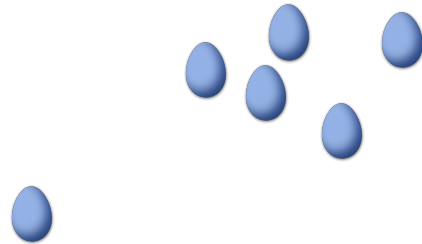
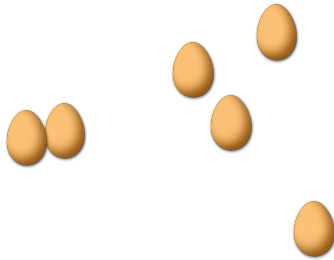
COMPTAGE DES ŒUX DE PÂQUES (1)

Combien d'œufs de Pâques y a-t-il dans chaque groupe?

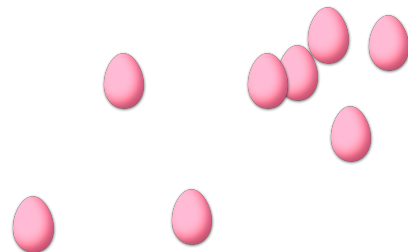
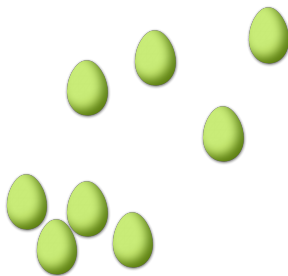
1. Il y a ____ œufs de Pâques dans le groupe ci-dessous. 2. Il y a ____ œufs de Pâques dans le groupe ci-dessous.



3. Il y a ____ œufs de Pâques dans le groupe ci-dessous. 4. Il y a ____ œufs de Pâques dans le groupe ci-dessous.



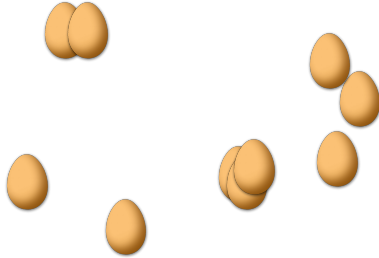
5. Il y a ____ œufs de Pâques dans le groupe ci-dessous. 6. Il y a ____ œufs de Pâques dans le groupe ci-dessous.



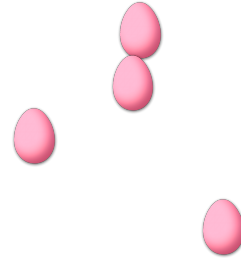
COMPTAGE DES ŒUX DE PÂQUES (1) RÉPONSES

Combien d'œufs de Pâques y a-t-il dans chaque groupe?

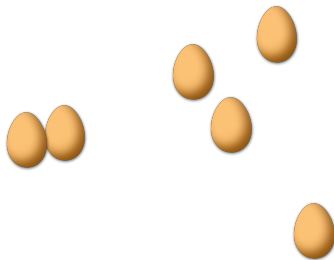
1. Il y a 10 œufs de Pâques dans le groupe ci-dessous.



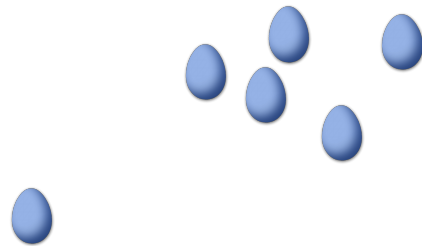
2. Il y a 4 œufs de Pâques dans le groupe ci-dessous.



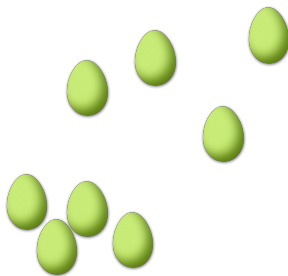
3. Il y a 6 œufs de Pâques dans le groupe ci-dessous.



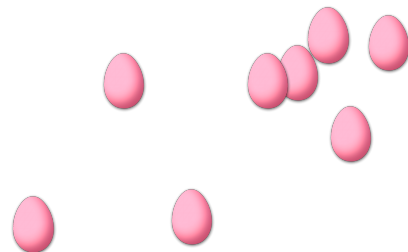
4. Il y a 6 œufs de Pâques dans le groupe ci-dessous.



5. Il y a 8 œufs de Pâques dans le groupe ci-dessous.




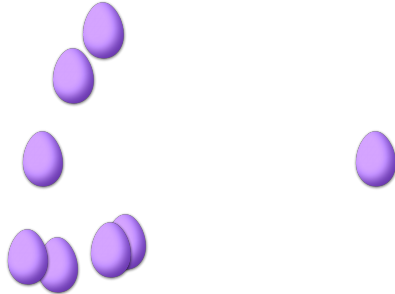
6. Il y a 8 œufs de Pâques dans le groupe ci-dessous.



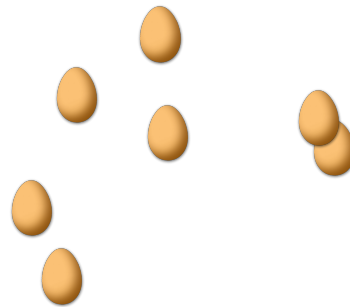
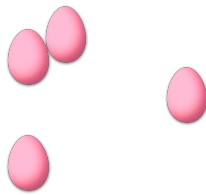
COMPTAGE DES ŒUX DE PÂQUES (1)

Combien d'œufs de Pâques y a-t-il dans chaque groupe?

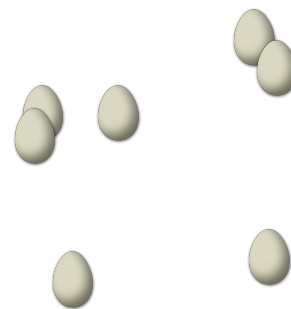

1. Il y a ____ œufs de Pâques dans le groupe ci-dessous. 2. Il y a ____ œufs de Pâques dans le groupe ci-dessous.



3. Il y a ____ œufs de Pâques dans le groupe ci-dessous. 4. Il y a ____ œufs de Pâques dans le groupe ci-dessous.



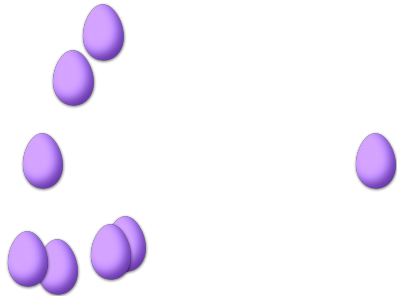
5. Il y a ____ œufs de Pâques dans le groupe ci-dessous. 6. Il y a ____ œufs de Pâques dans le groupe ci-dessous.



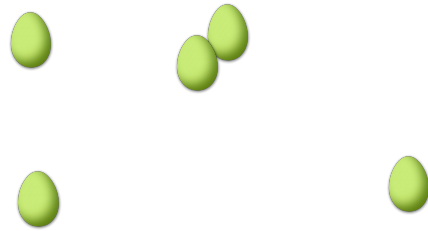
COMPTAGE DES ŒUX DE PÂQUES (1) RÉPONSES

Combien d'œufs de Pâques y a-t-il dans chaque groupe?

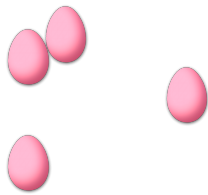
1. Il y a 8 œufs de Pâques dans le groupe ci-dessous.



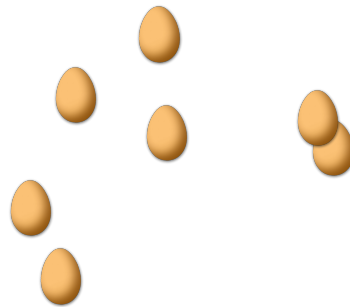
2. Il y a 5 œufs de Pâques dans le groupe ci-dessous.




3. Il y a 4 œufs de Pâques dans le groupe ci-dessous.



4. Il y a 7 œufs de Pâques dans le groupe ci-dessous.



5. Il y a 5 œufs de Pâques dans le groupe ci-dessous.



6. Il y a 7 œufs de Pâques dans le groupe ci-dessous.

