

QU'EST-CE QUE LE CADEAU? (J)


Quel nombre se trouve dans chaque cadeau?

$144 - 93 =$ 

$63 - 26 =$ 

$123 - 79 =$ 

$152 - 79 =$ 

$17 - 8 =$ 

$95 -$  $= 10$

$60 -$  $= 14$

$96 -$  $= 31$


$104 -$  $= 48$


$116 -$  $= 27$

$$  $- 85 = 76$


$$  $- 34 = 55$

$$  $- 45 = 29$

$$  $- 91 = 62$

$$  $- 23 = 12$

$114 - 22 =$ 

$180 - 91 =$ 

$124 - 48 =$ 

$137 - 50 =$ 

$165 - 67 =$ 

$106 -$  $= 86$


$72 -$  $= 62$

$126 -$  $= 34$


$94 -$  $= 58$

$90 -$  $= 26$

$$  $- 42 = 2$

$$  $- 52 = 20$

$$  $- 70 = 36$

$$  $- 51 = 41$

$$  $- 41 = 11$

$86 - 13 =$ 

$78 - 6 =$ 

$123 - 39 =$ 

$133 - 79 =$ 

$52 - 12 =$ 


$121 -$  $= 70$

$169 -$  $= 93$


$56 -$  $= 27$


$80 -$  $= 8$

$100 -$  $= 6$

$$  $- 93 = 58$

$$  $- 50 = 76$

$$  $- 17 = 45$

$$  $- 80 = 69$

$$  $- 27 = 42$