

QU'EST-CE QUE LE CADEAU? (D)

Quel nombre se trouve dans chaque cadeau?

$122 - 90 =$ 

$124 - 37 =$ 

$96 - 7 =$ 

$56 - 7 =$ 

$160 - 79 =$ 

$82 -$  $= 20$

$188 -$  $= 91$

$37 -$  $= 30$

$32 -$  $= 19$

$154 -$  $= 72$

$$  $- 84 = 95$

$$  $- 23 = 5$


$$  $- 57 = 75$

$$  $- 72 = 23$

$$  $- 97 = 53$

$70 - 33 =$ 

$54 - 36 =$ 

$59 - 19 =$ 

$45 - 28 =$ 

$155 - 88 =$ 


$134 -$  $= 66$

$184 -$  $= 92$


$59 -$  $= 29$

$158 -$  $= 71$


$98 -$  $= 57$

$$  $- 2 = 52$

$$  $- 65 = 72$

$$  $- 86 = 87$

$$  $- 37 = 85$

$$  $- 93 = 38$

$116 - 44 =$ 

$83 - 66 =$ 

$90 - 74 =$ 

$141 - 74 =$ 

$87 - 69 =$ 

$105 -$  $= 40$


$16 -$  $= 3$


$45 -$  $= 7$

$101 -$  $= 69$

$86 -$  $= 54$

$$  $- 10 = 38$

$$  $- 94 = 92$

$$  $- 21 = 56$

$$  $- 49 = 8$

$$  $- 7 = 42$