


QU'EST-CE QUE LE CADEAU? (G)

Quel nombre se trouve dans chaque cadeau?

$34 - 32 =$ 

$54 - 37 =$ 

$63 - 44 =$ 

$65 - 17 =$ 

$52 - 42 =$ 


$63 -$  $= 26$

$48 -$  $= 9$


$75 -$  $= 35$


$20 -$  $= 4$


$49 -$  $= 46$


$$  $- 27 = 18$

$$  $- 11 = 17$

$$  $- 3 = 33$

$$  $- 41 = 11$

$$  $- 36 = 32$

$47 - 19 =$ 

$86 - 43 =$ 

$26 - 6 =$ 

$63 - 18 =$ 

$71 - 42 =$ 

$48 -$  $= 24$

$57 -$  $= 24$

$33 -$  $= 15$

$76 -$  $= 27$

$46 -$  $= 19$

$$  $- 23 = 24$

$$  $- 23 = 45$

$$  $- 23 = 38$

$$  $- 36 = 24$

$$  $- 43 = 34$

$52 - 41 =$ 

$53 - 47 =$ 

$45 - 5 =$ 

$54 - 5 =$ 

$46 - 37 =$ 

$65 -$  $= 39$

$59 -$  $= 21$


$45 -$  $= 22$

$58 -$  $= 47$


$40 -$  $= 27$

$$  $- 20 = 23$

$$  $- 35 = 20$

$$  $- 11 = 38$

$$  $- 47 = 43$

$$  $- 9 = 15$