



QU'EST-CE QUE LE CADEAU? (J)


Quel nombre se trouve dans chaque cadeau?

$30 - 20 =$ 

$11 - 2 =$ 

$23 - 10 =$ 

$27 - 21 =$ 

$38 - 13 =$ 


$31 -$  $= 18$


$21 -$  $= 13$


$13 -$  $= 10$


$40 -$  $= 21$

$23 -$  $= 10$


$$  $- 19 = 15$


$$  $- 13 = 22$

$$  $- 7 = 6$

$$  $- 12 = 17$


$$  $- 22 = 14$

$9 - 3 =$ 

$12 - 3 =$ 

$44 - 22 =$ 

$18 - 2 =$ 

$34 - 10 =$ 

$37 -$  $= 25$


$26 -$  $= 10$


$8 -$  $= 5$

$25 -$  $= 4$


$19 -$  $= 12$


$$  $- 10 = 15$

$$  $- 11 = 21$

$$  $- 14 = 14$

$$  $- 2 = 3$


$$  $- 19 = 2$

$27 - 3 =$ 

$10 - 7 =$ 

$31 - 24 =$ 

$44 - 20 =$ 

$35 - 15 =$ 

$18 -$  $= 11$


$22 -$  $= 6$


$31 -$  $= 6$


$41 -$  $= 24$


$32 -$  $= 21$

$$  $- 20 = 10$

$$  $- 3 = 5$

$$  $- 23 = 22$

$$  $- 3 = 8$

$$  $- 18 = 18$