



QU'EST-CE QUE LE CADEAU? (J)


Quel nombre se trouve dans chaque cadeau?

$30 - 20 =$ 

$11 - 2 =$ 

$23 - 10 =$ 

$27 - 21 =$ 

$38 - 13 =$ 


$31 -$  $= 18$


$21 -$  $= 13$


$13 -$  $= 10$


$40 -$  $= 21$

$23 -$  $= 10$


$$  $- 19 = 15$


$$  $- 13 = 22$

$$  $- 7 = 6$

$$  $- 12 = 17$


$$  $- 22 = 14$

$9 - 3 =$ 

$12 - 3 =$ 

$44 - 22 =$ 

$18 - 2 =$ 

$34 - 10 =$ 

$37 -$  $= 25$


$26 -$  $= 10$


$8 -$  $= 5$

$25 -$  $= 4$


$19 -$  $= 12$


$$  $- 10 = 15$

$$  $- 11 = 21$

$$  $- 14 = 14$

$$  $- 2 = 3$


$$  $- 19 = 2$

$27 - 3 =$ 

$10 - 7 =$ 

$31 - 24 =$ 

$44 - 20 =$ 

$35 - 15 =$ 

$18 -$  $= 11$


$22 -$  $= 6$


$31 -$  $= 6$


$41 -$  $= 24$


$32 -$  $= 21$

$$  $- 20 = 10$

$$  $- 3 = 5$

$$  $- 23 = 22$

$$  $- 3 = 8$

$$  $- 18 = 18$

QU'EST-CE QUE LE CADEAU? (J) SOLUTIONS

Quel nombre se trouve dans chaque cadeau?

$30 - 20 = 10$

$11 - 2 = 9$

$23 - 10 = 13$

$27 - 21 = 6$

$38 - 13 = 25$

$31 - 13 = 18$

$21 - 8 = 13$

$13 - 3 = 10$

$40 - 19 = 21$

$23 - 13 = 10$

$34 - 19 = 15$

$35 - 13 = 22$

$13 - 7 = 6$

$29 - 12 = 17$

$36 - 22 = 14$

$9 - 3 = 6$

$12 - 3 = 9$

$44 - 22 = 22$

$18 - 2 = 16$

$34 - 10 = 24$

$37 - 12 = 25$

$26 - 16 = 10$

$8 - 3 = 5$

$25 - 21 = 4$

$19 - 7 = 12$

$25 - 10 = 15$

$32 - 11 = 21$

$28 - 14 = 14$

$5 - 2 = 3$

$21 - 19 = 2$

$27 - 3 = 24$

$10 - 7 = 3$

$31 - 24 = 7$

$44 - 20 = 24$

$35 - 15 = 20$

$18 - 7 = 11$

$22 - 16 = 6$

$31 - 25 = 6$

$41 - 17 = 24$

$32 - 11 = 21$

$30 - 20 = 10$

$8 - 3 = 5$

$45 - 23 = 22$

$11 - 3 = 8$

$36 - 18 = 18$