


QU'EST-CE QUE LE CADEAU? (I)

Quel nombre se trouve dans chaque cadeau?

$23 - 6 =$ 

$27 - 6 =$ 

$23 - 9 =$ 

$29 - 4 =$ 

$21 - 14 =$ 

$26 -$  $= 9$


$30 -$  $= 17$


$49 -$  $= 25$


$44 -$  $= 19$


$30 -$  $= 7$


$$  $- 7 = 21$

$$  $- 7 = 14$


$$  $- 21 = 24$

$$  $- 16 = 7$

$$  $- 5 = 22$

$22 - 11 =$ 

$6 - 2 =$ 

$24 - 10 =$ 

$12 - 6 =$ 

$18 - 12 =$ 


$30 -$  $= 6$

$14 -$  $= 9$


$32 -$  $= 24$


$33 -$  $= 22$

$17 -$  $= 7$

$$  $- 12 = 2$


$$  $- 24 = 6$

$$  $- 25 = 11$

$$  $- 17 = 24$

$$  $- 2 = 13$

$37 - 25 =$ 

$29 - 16 =$ 

$36 - 22 =$ 

$29 - 7 =$ 

$23 - 6 =$ 

$45 -$  $= 22$

$33 -$  $= 12$


$24 -$  $= 13$


$29 -$  $= 23$


$12 -$  $= 7$

$$  $- 5 = 13$

$$  $- 6 = 15$

$$  $- 3 = 24$

$$  $- 23 = 19$

$$  $- 10 = 2$