


QU'EST-CE QUE LE CADEAU? (G)


Quel nombre se trouve dans chaque cadeau?

$26 - 22 =$ 

$16 - 2 =$ 

$33 - 12 =$ 

$14 - 2 =$ 

$36 - 19 =$ 

$14 -$  $= 10$

$40 -$  $= 21$

$11 -$  $= 8$


$33 -$  $= 24$

$20 -$  $= 11$


$$  $- 23 = 17$

$$  $- 24 = 14$

$$  $- 8 = 15$

$$  $- 9 = 3$

$$  $- 7 = 3$

$19 - 13 =$ 

$15 - 12 =$ 

$16 - 13 =$ 

$19 - 5 =$ 

$35 - 12 =$ 

$34 -$  $= 11$


$22 -$  $= 15$

$31 -$  $= 14$


$19 -$  $= 13$


$26 -$  $= 18$

$$  $- 16 = 15$

$$  $- 8 = 20$


$$  $- 21 = 11$


$$  $- 15 = 22$

$$  $- 16 = 16$

$35 - 24 =$ 

$17 - 4 =$ 

$35 - 17 =$ 

$16 - 9 =$ 

$24 - 16 =$ 

$42 -$  $= 22$


$27 -$  $= 21$


$33 -$  $= 22$

$14 -$  $= 6$

$15 -$  $= 5$

$$  $- 4 = 3$

$$  $- 25 = 6$

$$  $- 11 = 25$

$$  $- 22 = 21$

$$  $- 5 = 24$