




QU'EST-CE QUE LE CADEAU? (A)

Quel nombre se trouve dans chaque cadeau?

$39 - 15 =$ 

$32 - 21 =$ 

$9 - 6 =$ 

$32 - 9 =$ 

$15 - 6 =$ 

$16 -$  $= 10$


$18 -$  $= 15$


$36 -$  $= 20$


$28 -$  $= 6$


$20 -$  $= 16$

$$  $- 14 = 5$

$$  $- 12 = 19$

$$  $- 20 = 15$

$$  $- 18 = 20$


$$  $- 18 = 7$

$33 - 8 =$ 

$15 - 4 =$ 

$12 - 8 =$ 

$30 - 24 =$ 

$21 - 16 =$ 

$17 -$  $= 7$


$23 -$  $= 3$


$15 -$  $= 10$


$16 -$  $= 13$


$25 -$  $= 12$


$$  $- 25 = 16$

$$  $- 13 = 14$

$$  $- 19 = 13$

$$  $- 14 = 17$

$$  $- 5 = 6$

$39 - 19 =$ 

$40 - 24 =$ 

$45 - 24 =$ 

$36 - 24 =$ 

$32 - 25 =$ 

$24 -$  $= 6$


$31 -$  $= 10$


$15 -$  $= 3$


$22 -$  $= 20$


$19 -$  $= 13$

$$  $- 10 = 19$

$$  $- 25 = 7$

$$  $- 10 = 20$

$$  $- 13 = 25$

$$  $- 18 = 11$