




QU'EST-CE QUE LE CADEAU? (€)

Quel nombre se trouve dans chaque cadeau?

$10 - 8 =$ 

$13 - 9 =$ 

$9 - 3 =$ 

$5 - 2 =$ 

$8 - 5 =$ 

$11 -$  $= 7$


$10 -$  $= 3$

$11 -$  $= 3$

$10 -$  $= 4$

$16 -$  $= 9$

$$  $- 2 = 7$

$$  $- 8 = 4$


$$  $- 2 = 5$

$$  $- 6 = 7$


$$  $- 4 = 9$

$11 - 2 =$ 

$12 - 8 =$ 

$17 - 9 =$ 

$16 - 8 =$ 

$15 - 9 =$ 

$16 -$  $= 7$


$11 -$  $= 3$

$10 -$  $= 2$


$18 -$  $= 9$


$11 -$  $= 5$

$$  $- 8 = 9$

$$  $- 5 = 7$

$$  $- 2 = 5$


$$  $- 9 = 9$

$$  $- 9 = 7$

$6 - 2 =$ 

$13 - 4 =$ 

$14 - 6 =$ 

$18 - 9 =$ 

$9 - 7 =$ 

$7 -$  $= 4$

$16 -$  $= 8$


$17 -$  $= 9$

$14 -$  $= 6$

$16 -$  $= 8$

$$  $- 7 = 7$

$$  $- 4 = 8$

$$  $- 9 = 6$

$$  $- 2 = 2$

$$  $- 7 = 3$