




## QU'EST-CE QUE LE CADEAU? (H)

Quel nombre se trouve dans chaque cadeau?

$36 \div 3 =$  

$110 \div 10 =$  

$143 \div 13 =$  

$45 \div 3 =$  

$16 \div 2 =$  

$216 \div$    $= 12$


$117 \div$    $= 13$


$170 \div$    $= 10$


$156 \div$    $= 12$


$360 \div$    $= 20$


$$    $\div 14 = 12$


$$    $\div 19 = 20$


$$    $\div 20 = 12$


$$    $\div 19 = 12$

$$    $\div 13 = 10$

$18 \div 9 =$  

$50 \div 10 =$  

$255 \div 17 =$  

$42 \div 3 =$  

$39 \div 13 =$  


$108 \div$    $= 9$


$8 \div$    $= 2$


$64 \div$    $= 16$

$45 \div$    $= 9$


$72 \div$    $= 18$


$$    $\div 11 = 6$


$$    $\div 2 = 2$


$$    $\div 13 = 3$


$$    $\div 20 = 19$


$$    $\div 16 = 3$

$130 \div 10 =$  

$170 \div 17 =$  

$70 \div 10 =$  

$38 \div 19 =$  

$128 \div 16 =$  


$208 \div$    $= 13$


$22 \div$    $= 11$


$85 \div$    $= 17$


$36 \div$    $= 4$


$168 \div$    $= 12$

$$    $\div 2 = 14$

$$    $\div 11 = 19$

$$    $\div 13 = 8$

$$    $\div 14 = 8$

$$    $\div 3 = 4$