



## QU'EST-CE QUE LE CADEAU? (A)


Quel nombre se trouve dans chaque cadeau?

$240 \div 20 =$  

$126 \div 9 =$  

$342 \div 18 =$  

$210 \div 15 =$  

$75 \div 15 =$  

$100 \div$    $= 20$


$18 \div$    $= 2$

$224 \div$    $= 14$


$20 \div$    $= 5$


$60 \div$    $= 20$

$$    $\div 12 = 7$

$$    $\div 13 = 2$

$$    $\div 5 = 9$

$$    $\div 18 = 11$

$$    $\div 17 = 17$

$120 \div 6 =$  

$34 \div 17 =$  

$192 \div 12 =$  

$65 \div 5 =$  

$306 \div 18 =$  

$45 \div$    $= 5$


$84 \div$    $= 12$


$10 \div$    $= 2$


$144 \div$    $= 9$


$45 \div$    $= 3$

$$    $\div 11 = 13$

$$    $\div 12 = 11$

$$    $\div 5 = 7$


$$    $\div 16 = 3$


$$    $\div 11 = 5$

$38 \div 2 =$  

$209 \div 11 =$  

$50 \div 5 =$  

$81 \div 9 =$  

$220 \div 11 =$  

$72 \div$    $= 6$

$42 \div$    $= 7$


$280 \div$    $= 14$


$77 \div$    $= 11$


$220 \div$    $= 11$

$$    $\div 9 = 14$

$$    $\div 11 = 19$

$$    $\div 11 = 7$

$$    $\div 17 = 15$

$$    $\div 11 = 8$