


QU'EST-CE QUE LE CADEAU? (€)

Quel nombre se trouve dans chaque cadeau?

$40 \div 4 =$ 

$54 \div 6 =$ 

$42 \div 7 =$ 

$100 \div 10 =$ 

$21 \div 7 =$ 

$36 \div$  $= 6$


$16 \div$  $= 2$

$40 \div$  $= 10$


$36 \div$  $= 4$

$32 \div$  $= 8$


$$  $\div 8 = 2$

$$  $\div 3 = 8$


$$  $\div 6 = 9$


$$  $\div 8 = 5$


$$  $\div 2 = 9$

$63 \div 9 =$ 

$35 \div 5 =$ 

$27 \div 9 =$ 

$63 \div 9 =$ 

$18 \div 9 =$ 


$15 \div$  $= 5$


$16 \div$  $= 8$


$35 \div$  $= 5$


$18 \div$  $= 9$


$16 \div$  $= 8$

$$  $\div 10 = 4$

$$  $\div 2 = 6$


$$  $\div 7 = 8$

$$  $\div 7 = 4$


$$  $\div 7 = 3$

$80 \div 10 =$ 

$12 \div 3 =$ 

$70 \div 10 =$ 

$8 \div 2 =$ 

$30 \div 10 =$ 


$8 \div$  $= 4$


$24 \div$  $= 4$

$60 \div$  $= 6$

$30 \div$  $= 10$


$30 \div$  $= 5$

$$  $\div 10 = 3$

$$  $\div 8 = 7$

$$  $\div 2 = 4$

$$  $\div 2 = 7$

$$  $\div 2 = 9$