

QU'EST-CE QUE LE CADEAU? (A)

Quel nombre se trouve dans chaque cadeau?

$30 \div 5 =$ 

$45 \div 5 =$ 

$30 \div 6 =$ 

$16 \div 4 =$ 

$8 \div 4 =$ 

$20 \div$  $= 5$

$36 \div$  $= 9$

$42 \div$  $= 6$

$18 \div$  $= 9$

$9 \div$  $= 3$

$$  $\div 3 = 9$

$$  $\div 8 = 2$

$$  $\div 2 = 4$

$$  $\div 3 = 3$

$$  $\div 6 = 3$

$40 \div 8 =$ 

$56 \div 8 =$ 

$16 \div 8 =$ 

$24 \div 3 =$ 

$28 \div 7 =$ 


$32 \div$  $= 8$


$9 \div$  $= 3$


$32 \div$  $= 4$


$81 \div$  $= 9$


$30 \div$  $= 5$

$$  $\div 9 = 7$

$$  $\div 2 = 2$

$$  $\div 4 = 9$

$$  $\div 4 = 9$

$$  $\div 8 = 8$

$24 \div 4 =$ 

$63 \div 7 =$ 

$10 \div 5 =$ 

$24 \div 3 =$ 

$12 \div 3 =$ 

$32 \div$  $= 4$


$16 \div$  $= 4$


$12 \div$  $= 4$


$63 \div$  $= 7$


$28 \div$  $= 7$

$$  $\div 8 = 2$

$$  $\div 3 = 5$

$$  $\div 5 = 6$

$$  $\div 7 = 3$

$$  $\div 2 = 6$