

QU'EST-CE QUE LE CADEAU? (D)

Quel nombre se trouve dans chaque cadeau?

$15 \div 5 =$ 

$24 \div 6 =$ 

$42 \div 7 =$ 

$14 \div 2 =$ 

$9 \div 3 =$ 

$9 \div$  $= 3$

$6 \div$  $= 2$


$14 \div$  $= 2$


$4 \div$  $= 2$

$18 \div$  $= 3$


$$  $\div 2 = 6$

$$  $\div 4 = 7$

$$  $\div 5 = 7$

$$  $\div 6 = 4$

$$  $\div 6 = 2$

$21 \div 3 =$ 

$10 \div 5 =$ 

$12 \div 3 =$ 

$21 \div 7 =$ 

$21 \div 3 =$ 


$35 \div$  $= 5$


$42 \div$  $= 7$


$35 \div$  $= 7$


$36 \div$  $= 6$


$20 \div$  $= 4$

$$  $\div 5 = 5$

$$  $\div 2 = 7$

$$  $\div 7 = 3$

$$  $\div 5 = 5$

$$  $\div 3 = 3$

$36 \div 6 =$ 

$12 \div 4 =$ 

$15 \div 5 =$ 

$12 \div 3 =$ 

$21 \div 7 =$ 

$28 \div$  $= 4$

$49 \div$  $= 7$


$16 \div$  $= 4$


$10 \div$  $= 5$


$35 \div$  $= 7$

$$  $\div 4 = 7$

$$  $\div 5 = 5$

$$  $\div 4 = 2$

$$  $\div 3 = 2$

$$  $\div 6 = 6$