


QU'EST-CE QUE LE CADEAU? (C)

Quel nombre se trouve dans chaque cadeau?

$21 \div 3 =$ 

$8 \div 4 =$ 

$10 \div 5 =$ 

$25 \div 5 =$ 

$20 \div 5 =$ 

$28 \div$  $= 7$


$9 \div$  $= 3$

$4 \div$  $= 2$

$6 \div$  $= 2$


$18 \div$  $= 6$

$$  $\div 5 = 5$

$$  $\div 7 = 5$

$$  $\div 3 = 2$

$$  $\div 6 = 4$

$$  $\div 6 = 6$

$15 \div 5 =$ 

$49 \div 7 =$ 

$20 \div 4 =$ 

$20 \div 4 =$ 

$12 \div 6 =$ 

$16 \div$  $= 4$


$42 \div$  $= 7$

$15 \div$  $= 3$

$18 \div$  $= 3$

$8 \div$  $= 4$

$$  $\div 4 = 4$

$$  $\div 7 = 7$

$$  $\div 7 = 6$


$$  $\div 5 = 5$

$$  $\div 5 = 4$

$28 \div 4 =$ 

$42 \div 6 =$ 

$36 \div 6 =$ 

$9 \div 3 =$ 

$28 \div 4 =$ 

$21 \div$  $= 3$

$15 \div$  $= 5$


$6 \div$  $= 3$


$15 \div$  $= 3$


$25 \div$  $= 5$

$$  $\div 3 = 4$

$$  $\div 7 = 4$

$$  $\div 5 = 7$

$$  $\div 5 = 7$

$$  $\div 6 = 3$