

QU'EST-CE QUE LE CADEAU? (F)


Quel nombre se trouve dans chaque cadeau?

$72 + 60 =$ 

$82 + 21 =$ 

$36 + 54 =$ 

$18 + 16 =$ 

$82 + 99 =$ 

$49 +$  $= 60$

$13 +$  $= 106$

$95 +$  $= 184$

$6 +$  $= 22$


$51 +$  $= 73$

$$  $+ 96 = 185$

$$  $+ 46 = 79$


$$  $+ 65 = 88$

$$  $+ 57 = 144$


$$  $+ 78 = 110$

$70 + 62 =$ 

$67 + 77 =$ 

$95 + 61 =$ 

$77 + 60 =$ 

$21 + 56 =$ 

$58 +$  $= 102$

$11 +$  $= 107$

$62 +$  $= 154$


$25 +$  $= 30$

$11 +$  $= 35$


$$  $+ 24 = 121$

$$  $+ 97 = 156$

$$  $+ 42 = 139$

$$  $+ 6 = 9$


$$  $+ 7 = 39$

$33 + 85 =$ 

$56 + 39 =$ 

$94 + 52 =$ 

$54 + 61 =$ 

$80 + 86 =$ 

$64 +$  $= 95$

$17 +$  $= 35$


$73 +$  $= 85$


$24 +$  $= 114$


$57 +$  $= 118$

$$  $+ 64 = 163$

$$  $+ 47 = 59$

$$  $+ 80 = 138$

$$  $+ 71 = 101$

$$  $+ 13 = 59$