


QU'EST-CE QUE LE CADEAU? (€)

Quel nombre se trouve dans chaque cadeau?

$11 + 11 =$ 

$10 + 23 =$ 

$22 + 14 =$ 

$12 + 11 =$ 

$13 + 23 =$ 

$4 +$  $= 11$


$17 +$  $= 38$


$7 +$  $= 26$


$21 +$  $= 37$


$12 +$  $= 14$

$$  $+ 5 = 23$

$$  $+ 14 = 31$

$$  $+ 21 = 29$


$$  $+ 18 = 35$


$$  $+ 15 = 23$

$23 + 7 =$ 

$15 + 14 =$ 

$4 + 24 =$ 

$16 + 16 =$ 

$9 + 9 =$ 

$7 +$  $= 30$

$4 +$  $= 6$

$21 +$  $= 33$


$24 +$  $= 35$


$9 +$  $= 26$


$$  $+ 15 = 27$

$$  $+ 22 = 36$


$$  $+ 20 = 45$


$$  $+ 21 = 26$


$$  $+ 3 = 19$

$19 + 19 =$ 

$25 + 14 =$ 

$20 + 18 =$ 

$14 + 9 =$ 

$3 + 10 =$ 

$17 +$  $= 25$


$15 +$  $= 39$


$2 +$  $= 4$


$10 +$  $= 27$

$20 +$  $= 25$

$$  $+ 17 = 31$

$$  $+ 11 = 33$

$$  $+ 25 = 30$

$$  $+ 3 = 19$

$$  $+ 5 = 26$