














































QU'EST-CE QUE LE CADEAU? (J)

Quel nombre se trouve dans chaque cadeau?

7 + 9 = 	8 + 8 = 	2 + 8 = 
6 + 4 = 	5 + 2 = 	2 + 4 = 
7 + 6 = 	5 + 8 = 	8 + 5 = 
3 + 3 = 	5 + 6 = 	2 + 7 = 
7 + 7 = 	9 + 8 = 	9 + 6 = 
4 +  = 8	9 +  = 12	9 +  = 12
9 +  = 15	2 +  = 8	8 +  = 17
2 +  = 9	4 +  = 6	7 +  = 13
4 +  = 7	8 +  = 10	4 +  = 8
6 +  = 11	8 +  = 17	6 +  = 8
 + 5 = 13	 + 3 = 11	 + 4 = 8
 + 8 = 17	 + 4 = 11	 + 5 = 7
 + 9 = 15	 + 4 = 10	 + 9 = 15
 + 5 = 9	 + 2 = 9	 + 4 = 12
 + 4 = 9	 + 2 = 6	 + 4 = 13

QU'EST-CE QUE LE CADEAU? (J) SOLUTIONS

Quel nombre se trouve dans chaque cadeau?

7 + 9 =	16	8 + 8 =	16	2 + 8 =	10
6 + 4 =	10	5 + 2 =	7	2 + 4 =	6
7 + 6 =	13	5 + 8 =	13	8 + 5 =	13
3 + 3 =	6	5 + 6 =	11	2 + 7 =	9
7 + 7 =	14	9 + 8 =	17	9 + 6 =	15
4 + <input type="text" value="4"/>	= 8	9 + <input type="text" value="3"/>	= 12	9 + <input type="text" value="3"/>	= 12
9 + <input type="text" value="6"/>	= 15	2 + <input type="text" value="6"/>	= 8	8 + <input type="text" value="9"/>	= 17
2 + <input type="text" value="7"/>	= 9	4 + <input type="text" value="2"/>	= 6	7 + <input type="text" value="6"/>	= 13
4 + <input type="text" value="3"/>	= 7	8 + <input type="text" value="2"/>	= 10	4 + <input type="text" value="4"/>	= 8
6 + <input type="text" value="5"/>	= 11	8 + <input type="text" value="9"/>	= 17	6 + <input type="text" value="2"/>	= 8
<input type="text" value="8"/> + 5 =	13	<input type="text" value="8"/> + 3 =	11	<input type="text" value="4"/> + 4 =	8
<input type="text" value="9"/> + 8 =	17	<input type="text" value="7"/> + 4 =	11	<input type="text" value="2"/> + 5 =	7
<input type="text" value="6"/> + 9 =	15	<input type="text" value="6"/> + 4 =	10	<input type="text" value="6"/> + 9 =	15
<input type="text" value="4"/> + 5 =	9	<input type="text" value="7"/> + 2 =	9	<input type="text" value="8"/> + 4 =	12
<input type="text" value="5"/> + 4 =	9	<input type="text" value="4"/> + 2 =	6	<input type="text" value="9"/> + 4 =	13