





# SECOUÉZ LE CADEAU (A)


Simplifiez chaque fraction et découvrez ce qui est dans chaque boîte.


1.  $\frac{50}{100} =$  


6.  $\frac{3}{36} =$  


2.  $\frac{9}{81} =$  


7.  $\frac{2}{10} =$  


3.  $\frac{54}{66} =$  

8.  $\frac{7}{35} =$  

4.  $\frac{12}{30} =$  


9.  $\frac{35}{60} =$  


5.  $\frac{6}{30} =$  


10.  $\frac{10}{40} =$  


## SECOUÉZ LE CADEAU (A) RÉPONSES


Simplifiez chaque fraction et découvrez ce qui est dans chaque boîte.


1.  $\frac{50}{100} = \frac{1}{2}$  


6.  $\frac{3}{36} = \frac{1}{12}$  


2.  $\frac{9}{81} = \frac{1}{9}$  


7.  $\frac{2}{10} = \frac{1}{5}$  


3.  $\frac{54}{66} = \frac{9}{11}$  

8.  $\frac{7}{35} = \frac{1}{5}$  

4.  $\frac{12}{30} = \frac{2}{5}$  


9.  $\frac{35}{60} = \frac{7}{12}$  


5.  $\frac{6}{30} = \frac{1}{5}$  


10.  $\frac{10}{40} = \frac{1}{4}$  


## SECOUÉZ LE CADEAU (B)


Simplifiez chaque fraction et découvrez ce qui est dans chaque boîte.


1.  $\frac{27}{36} =$  


6.  $\frac{2}{4} =$  


2.  $\frac{8}{24} =$  


7.  $\frac{32}{48} =$  


3.  $\frac{10}{20} =$  

8.  $\frac{4}{6} =$  

4.  $\frac{3}{6} =$  


9.  $\frac{40}{60} =$  


5.  $\frac{20}{55} =$  


10.  $\frac{10}{15} =$  


# SECOUZ LE CADEAU (B) RÉPONSES


Simplifiez chaque fraction et découvrez ce qui est dans chaque boîte.


1.  $\frac{27}{36} = \frac{3}{4}$  


6.  $\frac{2}{4} = \frac{1}{2}$  


2.  $\frac{8}{24} = \frac{1}{3}$  


7.  $\frac{32}{48} = \frac{2}{3}$  


3.  $\frac{10}{20} = \frac{1}{2}$  

8.  $\frac{4}{6} = \frac{2}{3}$  

4.  $\frac{3}{6} = \frac{1}{2}$  


9.  $\frac{40}{60} = \frac{2}{3}$  


5.  $\frac{20}{55} = \frac{4}{11}$  


10.  $\frac{10}{15} = \frac{2}{3}$  


## SECOUEZ LE CADEAU (C)


Simplifiez chaque fraction et découvrez ce qui est dans chaque boîte.


1.  $\frac{36}{66} =$  


6.  $\frac{30}{70} =$  


2.  $\frac{3}{27} =$  


7.  $\frac{5}{25} =$  


3.  $\frac{42}{70} =$  

8.  $\frac{5}{15} =$  

4.  $\frac{35}{84} =$  


9.  $\frac{21}{35} =$  


5.  $\frac{10}{40} =$  


10.  $\frac{15}{30} =$  


# SECOUZ LE CADEAU (C) RÉPONSES


Simplifiez chaque fraction et découvrez ce qui est dans chaque boîte.


1.  $\frac{36}{66} = \frac{6}{11}$  


6.  $\frac{30}{70} = \frac{3}{7}$  


2.  $\frac{3}{27} = \frac{1}{9}$  


7.  $\frac{5}{25} = \frac{1}{5}$  


3.  $\frac{42}{70} = \frac{3}{5}$  

8.  $\frac{5}{15} = \frac{1}{3}$  

4.  $\frac{35}{84} = \frac{5}{12}$  


9.  $\frac{21}{35} = \frac{3}{5}$  


5.  $\frac{10}{40} = \frac{1}{4}$  


10.  $\frac{15}{30} = \frac{1}{2}$  


## SECOUEZ LE CADEAU (D)


Simplifiez chaque fraction et découvrez ce qui est dans chaque boîte.


1.  $\frac{18}{21} =$  


6.  $\frac{20}{24} =$  


2.  $\frac{14}{28} =$  


7.  $\frac{6}{9} =$  


3.  $\frac{21}{30} =$  

8.  $\frac{5}{30} =$  

4.  $\frac{4}{12} =$  


9.  $\frac{81}{99} =$  


5.  $\frac{18}{36} =$  


10.  $\frac{36}{90} =$  


# SECOUÉZ LE CADEAU (D) RÉPONSES


Simplifiez chaque fraction et découvrez ce qui est dans chaque boîte.


1.  $\frac{18}{21} =$  


6.  $\frac{20}{24} =$  


2.  $\frac{14}{28} =$  


7.  $\frac{6}{9} =$  


3.  $\frac{21}{30} =$  

8.  $\frac{5}{30} =$  

4.  $\frac{4}{12} =$  

9.  $\frac{81}{99} =$  


5.  $\frac{18}{36} =$  


10.  $\frac{36}{90} =$  





## SECOUÉZ LE CADEAU (€)


Simplifiez chaque fraction et découvrez ce qui est dans chaque boîte.


1.  $\frac{36}{45} =$  


6.  $\frac{4}{8} =$  


2.  $\frac{7}{49} =$  


7.  $\frac{48}{56} =$  


3.  $\frac{12}{48} =$  

8.  $\frac{8}{24} =$  

4.  $\frac{20}{80} =$  

9.  $\frac{50}{70} =$  


5.  $\frac{16}{24} =$  


10.  $\frac{5}{10} =$  


JOYEUX NOËL DE LA PART DE MATHSLIBRES.COM


# SECOUÉZ LE CADEAU (€) RÉPONSES


Simplifiez chaque fraction et découvrez ce qui est dans chaque boîte.


1.  $\frac{36}{45} =$  


6.  $\frac{4}{8} =$  


2.  $\frac{7}{49} =$  


7.  $\frac{48}{56} =$  


3.  $\frac{12}{48} =$  

8.  $\frac{8}{24} =$  

4.  $\frac{20}{80} =$  


9.  $\frac{50}{70} =$  


5.  $\frac{16}{24} =$  


10.  $\frac{5}{10} =$  


## SECOUEZ LE CADEAU (F)


Simplifiez chaque fraction et découvrez ce qui est dans chaque boîte.


1.  $\frac{27}{54} =$  


6.  $\frac{16}{80} =$  


2.  $\frac{24}{30} =$  


7.  $\frac{14}{21} =$  


3.  $\frac{6}{18} =$  

8.  $\frac{9}{15} =$  

4.  $\frac{4}{8} =$  


9.  $\frac{16}{40} =$  


5.  $\frac{18}{36} =$  


10.  $\frac{12}{48} =$  


# SECOUÉZ LE CADEAU (F) RÉPONSES


Simplifiez chaque fraction et découvrez ce qui est dans chaque boîte.


1.  $\frac{27}{54} = \frac{1}{2}$  


6.  $\frac{16}{80} = \frac{1}{5}$  


2.  $\frac{24}{30} = \frac{4}{5}$  


7.  $\frac{14}{21} = \frac{2}{3}$  


3.  $\frac{6}{18} = \frac{1}{3}$  

8.  $\frac{9}{15} = \frac{3}{5}$  

4.  $\frac{4}{8} = \frac{1}{2}$  


9.  $\frac{16}{40} = \frac{2}{5}$  


5.  $\frac{18}{36} = \frac{1}{2}$  


10.  $\frac{12}{48} = \frac{1}{4}$  


## SECOUÉZ LE CADEAU (G)


Simplifiez chaque fraction et découvrez ce qui est dans chaque boîte.


1.  $\frac{14}{21} =$  


6.  $\frac{20}{50} =$  


2.  $\frac{40}{60} =$  


7.  $\frac{90}{99} =$  


3.  $\frac{24}{48} =$  

8.  $\frac{8}{48} =$  

4.  $\frac{36}{45} =$  

9.  $\frac{6}{18} =$  


5.  $\frac{24}{32} =$  


10.  $\frac{4}{40} =$  


JOYEUX NOËL DE LA PART DE MATHSLIBRES.COM


# SECOUÉZ LE CADEAU (9) RÉPONSES


Simplifiez chaque fraction et découvrez ce qui est dans chaque boîte.


1.  $\frac{14}{21} = \frac{2}{3}$  


6.  $\frac{20}{50} = \frac{2}{5}$  


2.  $\frac{40}{60} = \frac{2}{3}$  


7.  $\frac{90}{99} = \frac{10}{11}$  


3.  $\frac{24}{48} = \frac{1}{2}$  

8.  $\frac{8}{48} = \frac{1}{6}$  

4.  $\frac{36}{45} = \frac{4}{5}$  


9.  $\frac{6}{18} = \frac{1}{3}$  


5.  $\frac{24}{32} = \frac{3}{4}$  


10.  $\frac{4}{40} = \frac{1}{10}$  


## SECOUÉZ LE CADEAU (H)


Simplifiez chaque fraction et découvrez ce qui est dans chaque boîte.


1.  $\frac{12}{60} =$  


6.  $\frac{45}{99} =$  


2.  $\frac{60}{100} =$  


7.  $\frac{4}{8} =$  


3.  $\frac{35}{40} =$  

8.  $\frac{40}{50} =$  

4.  $\frac{18}{63} =$  


9.  $\frac{8}{18} =$  


5.  $\frac{27}{45} =$  


10.  $\frac{36}{72} =$  


# SECOUÉZ LE CADEAU (H) RÉPONSES


Simplifiez chaque fraction et découvrez ce qui est dans chaque boîte.


1.  $\frac{12}{60} = \frac{1}{5}$  


6.  $\frac{45}{99} = \frac{5}{11}$  


2.  $\frac{60}{100} = \frac{3}{5}$  


7.  $\frac{4}{8} = \frac{1}{2}$  


3.  $\frac{35}{40} = \frac{7}{8}$  

8.  $\frac{40}{50} = \frac{4}{5}$  

4.  $\frac{18}{63} = \frac{2}{7}$  

9.  $\frac{8}{18} = \frac{4}{9}$  


5.  $\frac{27}{45} = \frac{3}{5}$  


10.  $\frac{36}{72} = \frac{1}{2}$  





## Secouez le Cadeau (I)


Simplifiez chaque fraction et découvrez ce qui est dans chaque boîte.


1.  $\frac{72}{96} =$  


6.  $\frac{4}{12} =$  


2.  $\frac{6}{8} =$  


7.  $\frac{40}{60} =$  


3.  $\frac{9}{27} =$  

8.  $\frac{8}{16} =$  

4.  $\frac{8}{24} =$  


9.  $\frac{24}{32} =$  


5.  $\frac{8}{56} =$  


10.  $\frac{18}{27} =$  


# SECOUÉZ LE CADEAU (I) RÉPONSES


Simplifiez chaque fraction et découvrez ce qui est dans chaque boîte.


1.  $\frac{72}{96} = \frac{3}{4}$  


6.  $\frac{4}{12} = \frac{1}{3}$  


2.  $\frac{6}{8} = \frac{3}{4}$  


7.  $\frac{40}{60} = \frac{2}{3}$  


3.  $\frac{9}{27} = \frac{1}{3}$  

8.  $\frac{8}{16} = \frac{1}{2}$  

4.  $\frac{8}{24} = \frac{1}{3}$  


9.  $\frac{24}{32} = \frac{3}{4}$  


5.  $\frac{8}{56} = \frac{1}{7}$  


10.  $\frac{18}{27} = \frac{2}{3}$  


## SECOUÉZ LE CADEAU (J)


Simplifiez chaque fraction et découvrez ce qui est dans chaque boîte.


1.  $\frac{2}{10} =$  


6.  $\frac{40}{96} =$  


2.  $\frac{90}{100} =$  


7.  $\frac{12}{24} =$  


3.  $\frac{6}{12} =$  

8.  $\frac{7}{42} =$  

4.  $\frac{12}{30} =$  

9.  $\frac{6}{27} =$  


5.  $\frac{30}{54} =$  


10.  $\frac{7}{56} =$  


JOYEUX NOËL DE LA PART DE MATHSLIBRES.COM


# SECOUÉZ LE CADEAU (J) RÉPONSES


Simplifiez chaque fraction et découvrez ce qui est dans chaque boîte.


1.  $\frac{2}{10} = \frac{1}{5}$  


6.  $\frac{40}{96} = \frac{5}{12}$  


2.  $\frac{90}{100} = \frac{9}{10}$  


7.  $\frac{12}{24} = \frac{1}{2}$  

3.  $\frac{6}{12} = \frac{1}{2}$  

8.  $\frac{7}{42} = \frac{1}{6}$  

4.  $\frac{12}{30} = \frac{2}{5}$  

9.  $\frac{6}{27} = \frac{2}{9}$  

5.  $\frac{30}{54} = \frac{5}{9}$  

10.  $\frac{7}{56} = \frac{1}{8}$  