





## SECOUEZ LE CADEAU (D)


Simplifiez chaque fraction et découvrez ce qui est dans chaque boîte.


1.  $\frac{18}{21} =$  


6.  $\frac{20}{24} =$  


2.  $\frac{14}{28} =$  


7.  $\frac{6}{9} =$  

3.  $\frac{21}{30} =$  

8.  $\frac{5}{30} =$  

4.  $\frac{4}{12} =$  

9.  $\frac{81}{99} =$  

5.  $\frac{18}{36} =$  

10.  $\frac{36}{90} =$  