





SECOUZ LE CADEAU (B)


Simplifiez chaque fraction et découvrez ce qui est dans chaque boîte.


1. $\frac{27}{36} =$ 


6. $\frac{2}{4} =$ 


2. $\frac{8}{24} =$ 


7. $\frac{32}{48} =$ 

3. $\frac{10}{20} =$ 

8. $\frac{4}{6} =$ 

4. $\frac{3}{6} =$ 

9. $\frac{40}{60} =$ 

5. $\frac{20}{55} =$ 

10. $\frac{10}{15} =$ 