









Compte de Pièces de Monnaie (F)

Quelle est la valeur totale de chaque collection de pièces de monnaie?

1.		2.	
= ?		= ?	
3.		4.	
= ?		= ?	
5.		6.	
= ?		= ?	
7.		8.	
= ?		= ?	

Compte de Pièces de Monnaie (F) Solutions

Quelle est la valeur totale de chaque collection de pièces de monnaie?

1.



= \$0.77

2.



= \$0.78

3.



= \$0.91

4.



= \$0.87

5.



= \$0.96

6.



= \$0.98

7.



= \$0.52

8.



= \$0.52