

Compte de Pièces de Monnaie (J)

Quelle est la valeur totale de chaque collection de pièces de monnaie?

1.




= ?

2.



= ?

3.




= ?

Compte de Pièces de Monnaie (J) Solutions

Quelle est la valeur totale de chaque collection de pièces de monnaie?

1.




= \$1.50

2.



= \$2.40

3.



= \$1.27