


Comptage de Monnaie des États-Unis. (E)

Faites le total de chaque collection de pièces de monnaie ci-dessous.


1.



2.



3.




Images de pièces de monnaie provenant de la Monnaie des États-Unis.

Comptage de Monnaie des États-Unis. (E) Solutions

Faites le total de chaque collection de pièces de monnaie ci-dessous.

1.




1,40 \$

2.



1,70 \$

3.



1,45 \$

Images de pièces de monnaie provenant de la Monnaie des États-Unis.