



Comptage de Monnaie des États-Unis. (C)

Faites le total de chaque collection de pièces de monnaie ci-dessous.


1.



2.



3.




Images de pièces de monnaie provenant de la Monnaie des États-Unis.

Comptage de Monnaie des États-Unis. (C) Solutions


Faites le total de chaque collection de pièces de monnaie ci-dessous.

1.




1,52 \$

2.



1,14 \$

3.



1,03 \$

Images de pièces de monnaie provenant de la Monnaie des États-Unis.