


# Comptage de Monnaie des États-Unis. (H)

Faites le total de chaque collection de pièces de monnaie ci-dessous.

1.



---

2.



---

3.





---

# Comptage de Monnaie des États-Unis. (H) Solutions

Faites le total de chaque collection de pièces de monnaie ci-dessous.

1.



3,20 \$

2.



4,43 \$

3.



4,08 \$

Images de pièces de monnaie provenant de la Monnaie des États-Unis.