

# Comptage de Monnaie des États-Unis. (C)


Faites le total de chaque collection de pièces de monnaie ci-dessous.

1.




\_\_\_\_\_

2.



\_\_\_\_\_

3.



\_\_\_\_\_

Images de pièces de monnaie provenant de la Monnaie des États-Unis.

# Comptage de Monnaie des États-Unis. (C) Solutions



Faites le total de chaque collection de pièces de monnaie ci-dessous.

1.




3,59 \$

2.



4,15 \$

3.



4,92 \$

Images de pièces de monnaie provenant de la Monnaie des États-Unis.