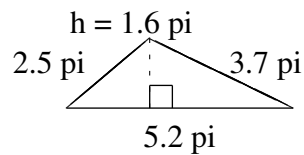
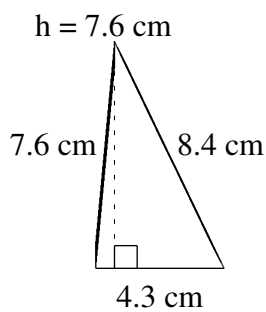
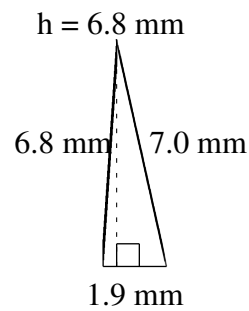
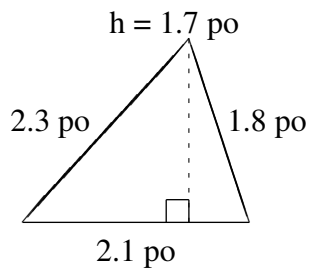
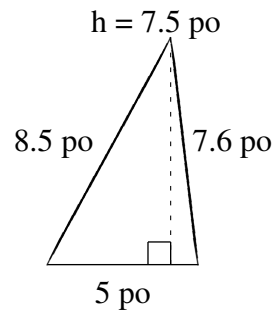
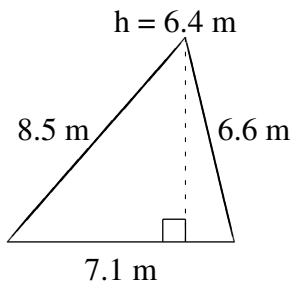


Aire et Périmètre de Triangles (D)

Trouvez l'aire et le périmètre de chaque triangle.



Aire et Périmètre de Triangles (D) Solutions

Trouvez l'aire et le périmètre de chaque triangle.

