


# Comptage de Chapeaux des Leprechauns (I)

Comptez combien de chapeaux des Leprechauns sont dans chaque groupe?


1. Il y a \_\_\_\_ chapeaux des Leprechauns dans le groupe ci-dessous.




2. Il y a \_\_\_\_ chapeaux des Leprechauns dans le groupe ci-dessous.




3. Il y a \_\_\_\_ chapeaux des Leprechauns dans le groupe ci-dessous.



4. Il y a \_\_\_\_ chapeaux des Leprechauns dans le groupe ci-dessous.



5. Il y a \_\_\_\_ chapeaux des Leprechauns dans le groupe ci-dessous.



6. Il y a \_\_\_\_ chapeaux des Leprechauns dans le groupe ci-dessous.




# Comptage de Chapeaux des Leprechauns (I) Réponses

Comptez combien de chapeaux des Leprechauns sont dans chaque groupe?


1. Il y a 6 chapeaux des Leprechauns dans le groupe ci-dessous.




2. Il y a 24 chapeaux des Leprechauns dans le groupe ci-dessous.




3. Il y a 20 chapeaux des Leprechauns dans le groupe ci-dessous.



4. Il y a 16 chapeaux des Leprechauns dans le groupe ci-dessous.



5. Il y a 28 chapeaux des Leprechauns dans le groupe ci-dessous.



6. Il y a 10 chapeaux des Leprechauns dans le groupe ci-dessous.

