



# Comptage de Chapeaux des Leprechauns (H)

Comptez combien de chapeaux des Leprechauns sont dans chaque groupe?

1. Il y a \_\_\_\_ chapeaux des Leprechauns dans le groupe ci-dessous.



2. Il y a \_\_\_\_ chapeaux des Leprechauns dans le groupe ci-dessous.



3. Il y a \_\_\_\_ chapeaux des Leprechauns dans le groupe ci-dessous.



4. Il y a \_\_\_\_ chapeaux des Leprechauns dans le groupe ci-dessous.



5. Il y a \_\_\_\_ chapeaux des Leprechauns dans le groupe ci-dessous.




6. Il y a \_\_\_\_ chapeaux des Leprechauns dans le groupe ci-dessous.



# Comptage de Chapeaux des Leprechauns (H) Réponses

Comptez combien de chapeaux des Leprechauns sont dans chaque groupe?


1. Il y a 20 chapeaux des Leprechauns dans le groupe ci-dessous.



2. Il y a 15 chapeaux des Leprechauns dans le groupe ci-dessous.



3. Il y a 25 chapeaux des Leprechauns dans le groupe ci-dessous.



4. Il y a 14 chapeaux des Leprechauns dans le groupe ci-dessous.



5. Il y a 4 chapeaux des Leprechauns dans le groupe ci-dessous.



6. Il y a 21 chapeaux des Leprechauns dans le groupe ci-dessous.

