



Comptage de Chapeaux des Leprechauns (F)

Comptez combien de chapeaux des Leprechauns sont dans chaque groupe?

1. Il y a ____ chapeaux des Leprechauns dans le groupe ci-dessous.




2. Il y a ____ chapeaux des Leprechauns dans le groupe ci-dessous.



3. Il y a ____ chapeaux des Leprechauns dans le groupe ci-dessous.




4. Il y a ____ chapeaux des Leprechauns dans le groupe ci-dessous.



5. Il y a ____ chapeaux des Leprechauns dans le groupe ci-dessous.




6. Il y a ____ chapeaux des Leprechauns dans le groupe ci-dessous.




Comptage de Chapeaux des Leprechauns (F) Réponses

Comptez combien de chapeaux des Leprechauns sont dans chaque groupe?

1. Il y a 12 chapeaux des Leprechauns dans le groupe ci-dessous.




2. Il y a 28 chapeaux des Leprechauns dans le groupe ci-dessous.



3. Il y a 9 chapeaux des Leprechauns dans le groupe ci-dessous.



4. Il y a 35 chapeaux des Leprechauns dans le groupe ci-dessous.



5. Il y a 6 chapeaux des Leprechauns dans le groupe ci-dessous.



6. Il y a 16 chapeaux des Leprechauns dans le groupe ci-dessous.

