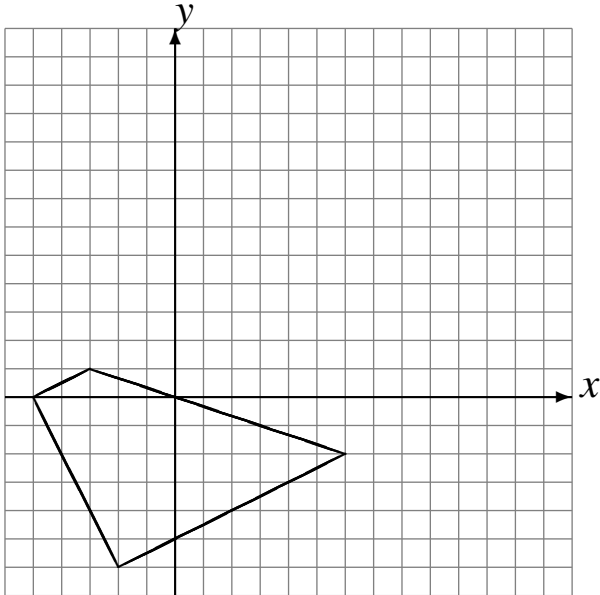


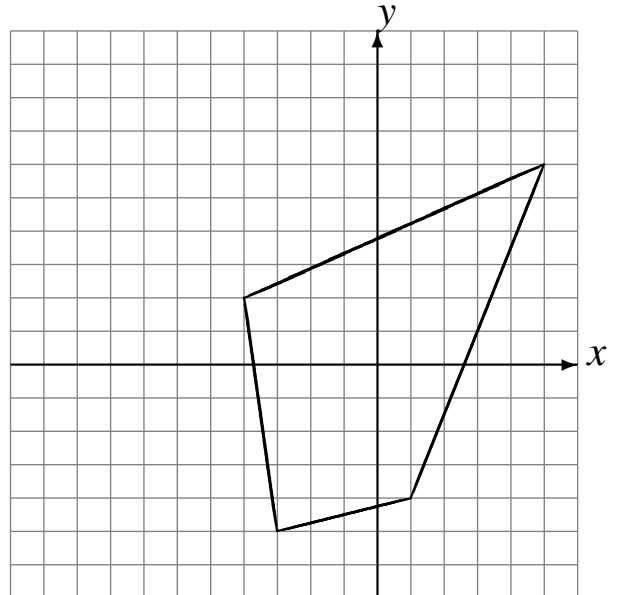
# Translations (E)

Dessinez l'image finale et les étapes intermédiaires de la translation décrite.

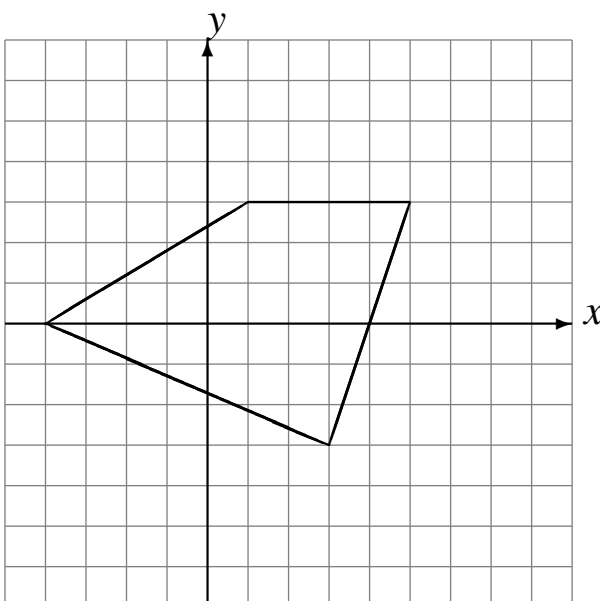
Déplacement de la figure par  $(5, 5)$ .  
Déplacement de la figure par  $(2, 0)$ .  
Déplacement de la figure par  $(-2, 6)$ .



Déplacement de la figure par  $(-4, 3)$ .  
Déplacement de la figure par  $(3, -4)$ .  
Déplacement de la figure par  $(-5, 4)$ .



Déplacement de la figure par  $(0, 1)$ .  
Déplacement de la figure par  $(1, 1)$ .  
Déplacement de la figure par  $(2, -4)$ .



Déplacement de la figure par  $(-5, 6)$ .  
Déplacement de la figure par  $(3, -1)$ .  
Déplacement de la figure par  $(0, 0)$ .

