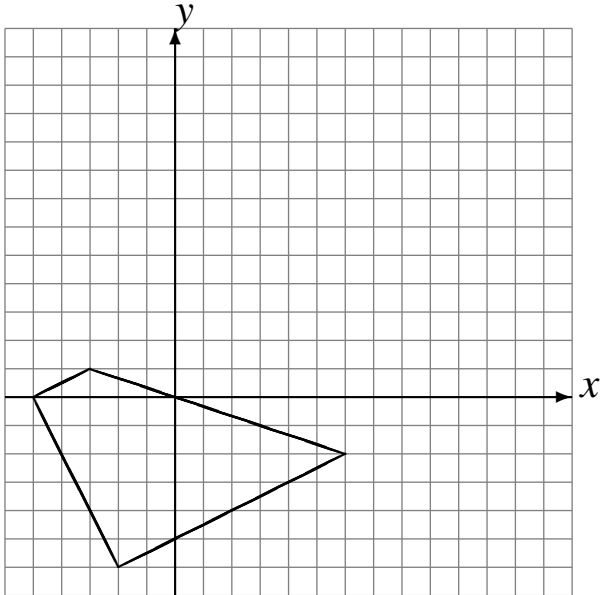


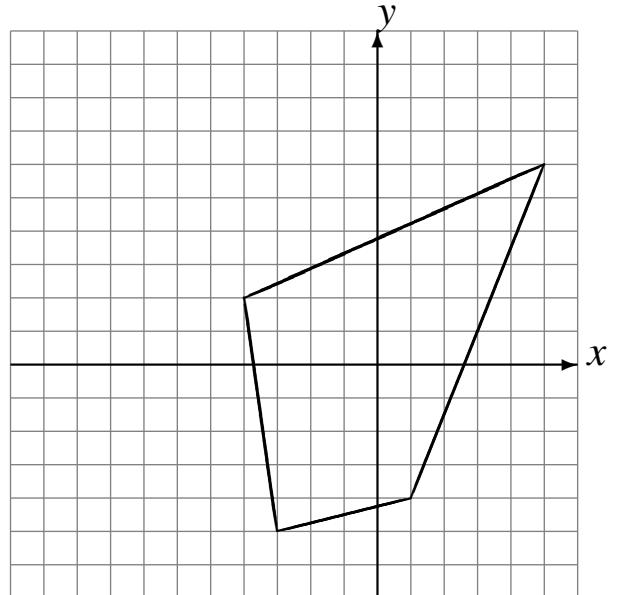
Translations (E)

Dessinez l'image finale et les étapes intermédiaires de la translation décrite.

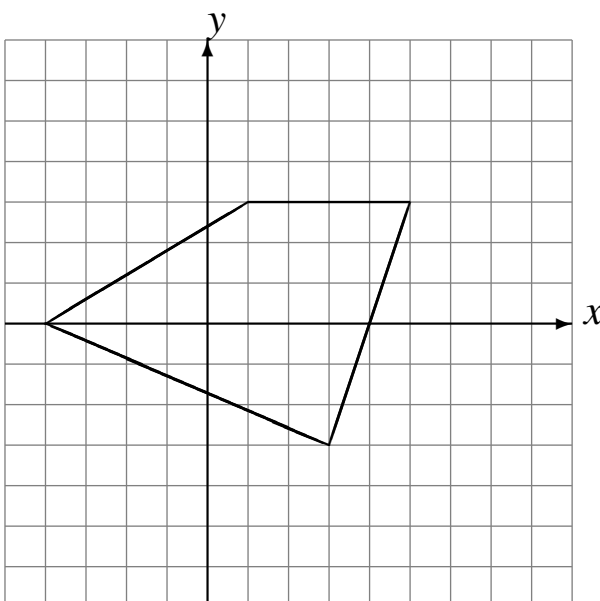
Déplacement de la figure par $(5, 5)$.
Déplacement de la figure par $(2, 0)$.
Déplacement de la figure par $(-2, 6)$.



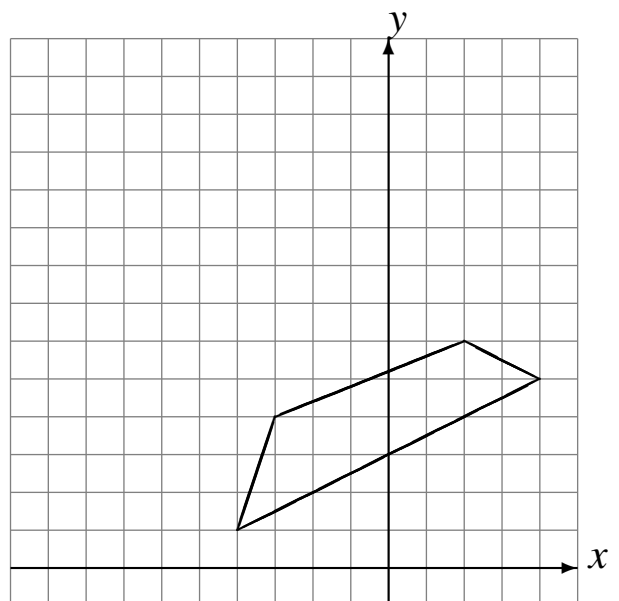
Déplacement de la figure par $(-4, 3)$.
Déplacement de la figure par $(3, -4)$.
Déplacement de la figure par $(-5, 4)$.



Déplacement de la figure par $(0, 1)$.
Déplacement de la figure par $(1, 1)$.
Déplacement de la figure par $(2, -4)$.



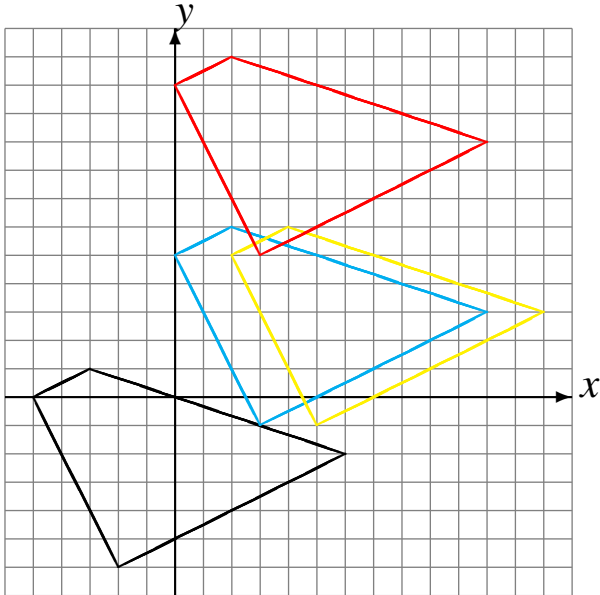
Déplacement de la figure par $(-5, 6)$.
Déplacement de la figure par $(3, -1)$.
Déplacement de la figure par $(0, 0)$.



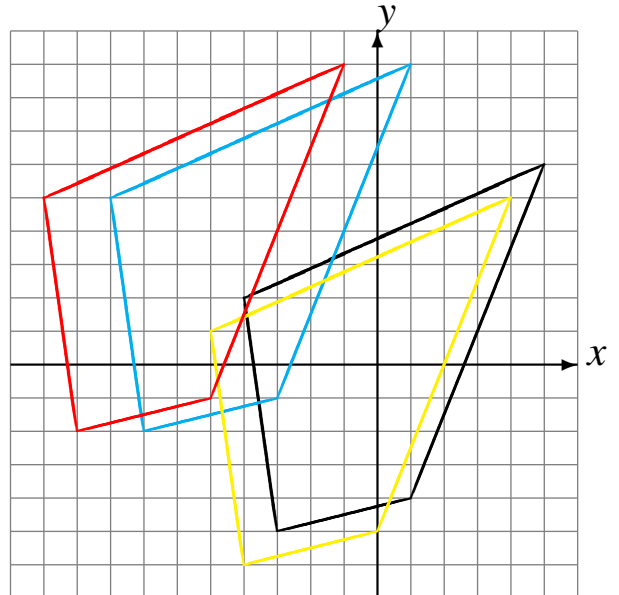
Translations (E) Solutions

Dessinez l'image finale et les étapes intermédiaires de la translation décrite.

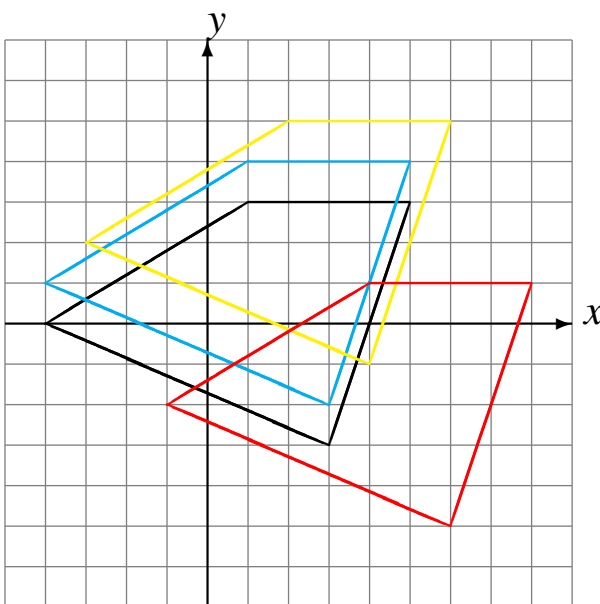
Déplacement de la figure par $(5, 5)$.
Déplacement de la figure par $(2, 0)$.
Déplacement de la figure par $(-2, 6)$.



Déplacement de la figure par $(-4, 3)$.
Déplacement de la figure par $(3, -4)$.
Déplacement de la figure par $(-5, 4)$.



Déplacement de la figure par $(0, 1)$.
Déplacement de la figure par $(1, 1)$.
Déplacement de la figure par $(2, -4)$.



Déplacement de la figure par $(-5, 6)$.
Déplacement de la figure par $(3, -1)$.
Déplacement de la figure par $(0, 0)$.

