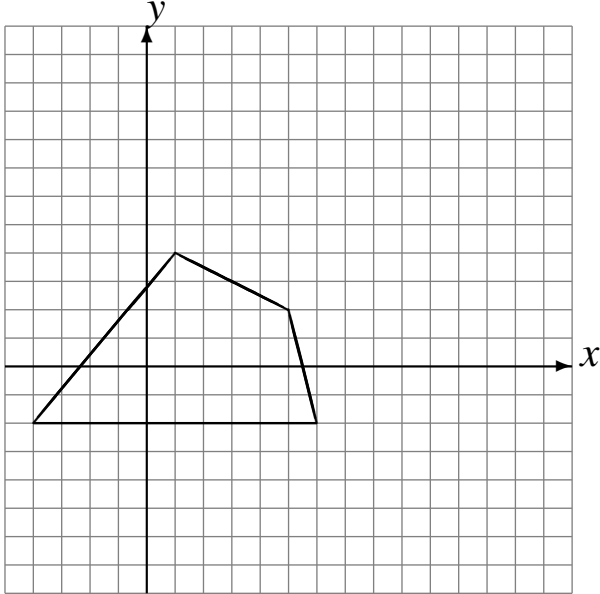


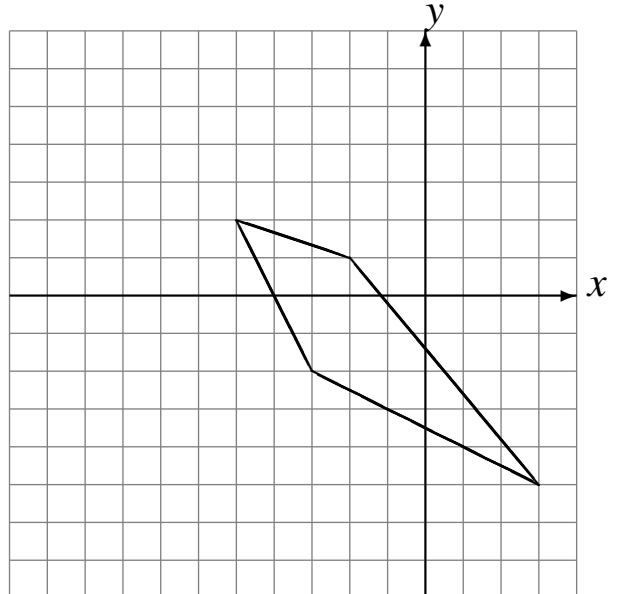
Translations (I)

Dessinez l'image finale et les étapes intermédiaires de la translation décrite.

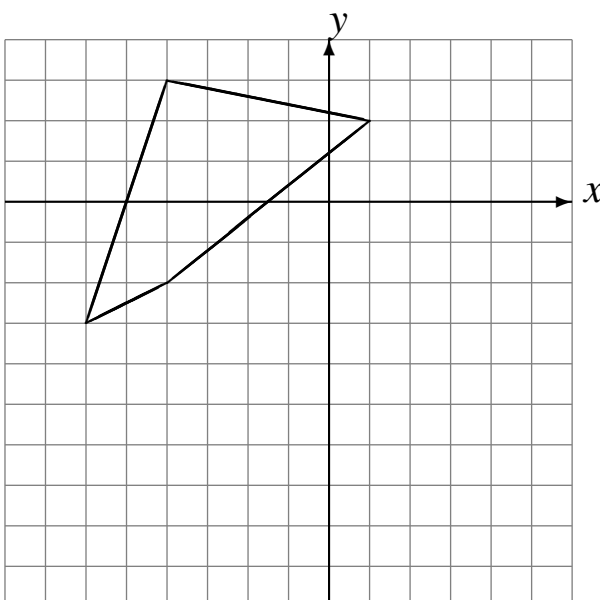
Déplacement de la figure par $(6, -1)$.
Déplacement de la figure par $(2, 3)$.



Déplacement de la figure par $(-5, 1)$.
Déplacement de la figure par $(5, 1)$.



Déplacement de la figure par $(4, -6)$.
Déplacement de la figure par $(-5, 0)$.



Déplacement de la figure par $(5, 6)$.
Déplacement de la figure par $(6, 3)$.

