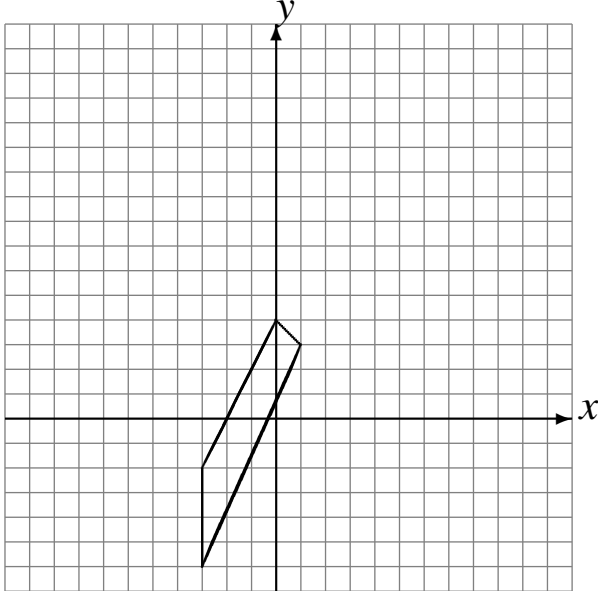


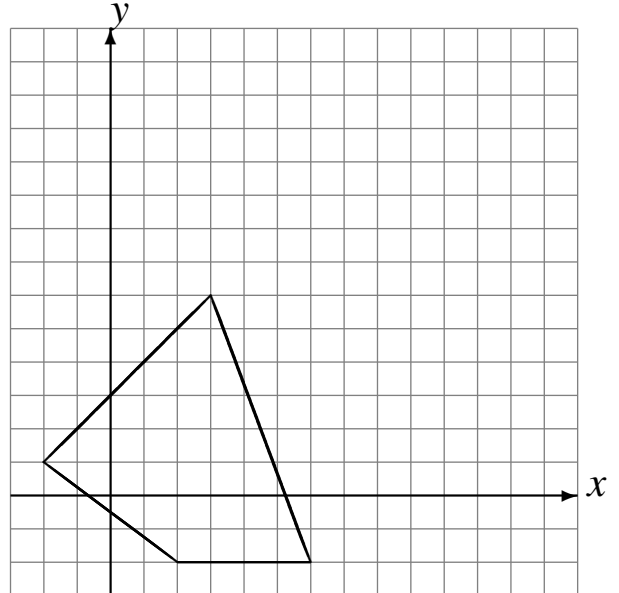
Translations (G)

Dessinez l'image finale et les étapes intermédiaires de la translation décrite.

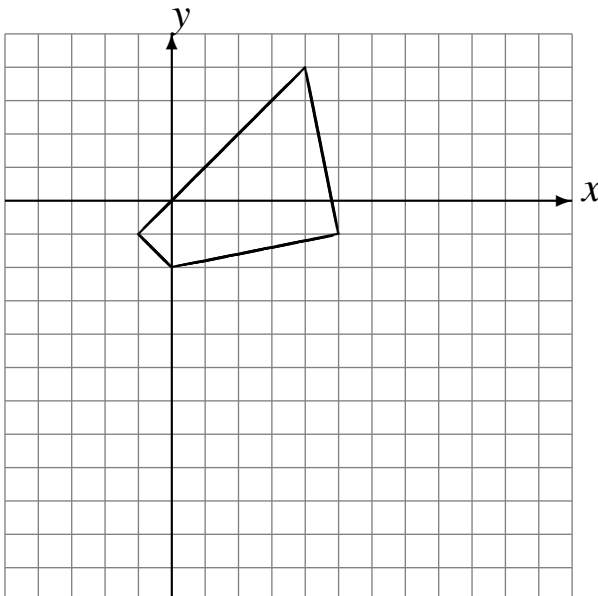
Déplacement de la figure par $(3, 5)$.
Déplacement de la figure par $(-1, 6)$.



Déplacement de la figure par $(4, 6)$.
Déplacement de la figure par $(3, -4)$.



Déplacement de la figure par $(3, -4)$.
Déplacement de la figure par $(-3, -5)$.



Déplacement de la figure par $(-5, 2)$.
Déplacement de la figure par $(2, -1)$.

