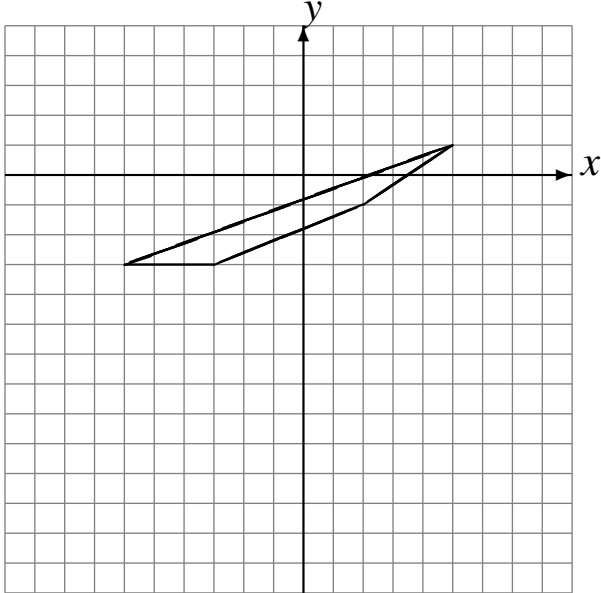


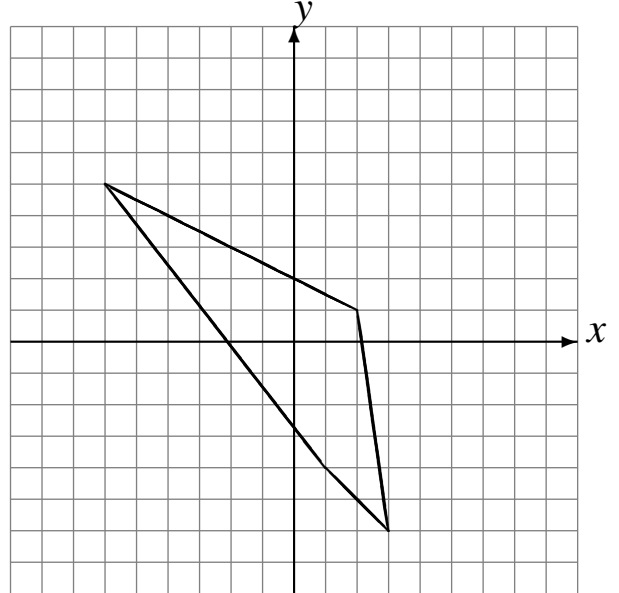
Translations (E)

Dessinez l'image finale et les étapes intermédiaires de la translation décrite.

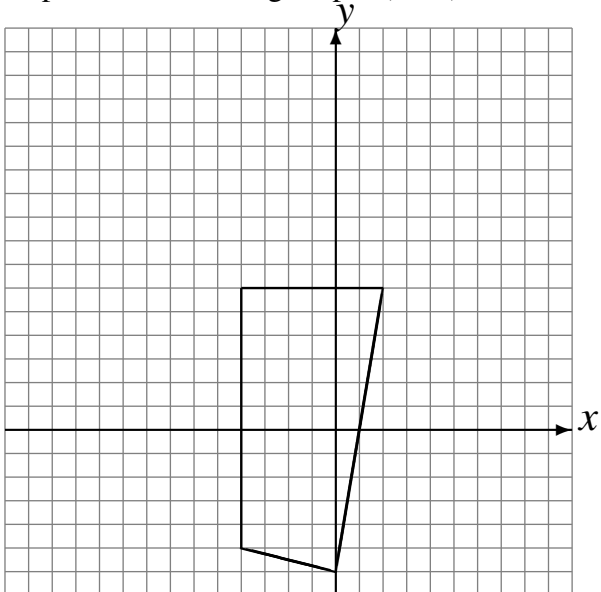
Déplacement de la figure par $(3, -4)$.
Déplacement de la figure par $(-6, -3)$.



Déplacement de la figure par $(3, 4)$.
Déplacement de la figure par $(-3, -5)$.



Déplacement de la figure par $(2, 4)$.
Déplacement de la figure par $(-6, 6)$.



Déplacement de la figure par $(5, -5)$.
Déplacement de la figure par $(-3, 4)$.

