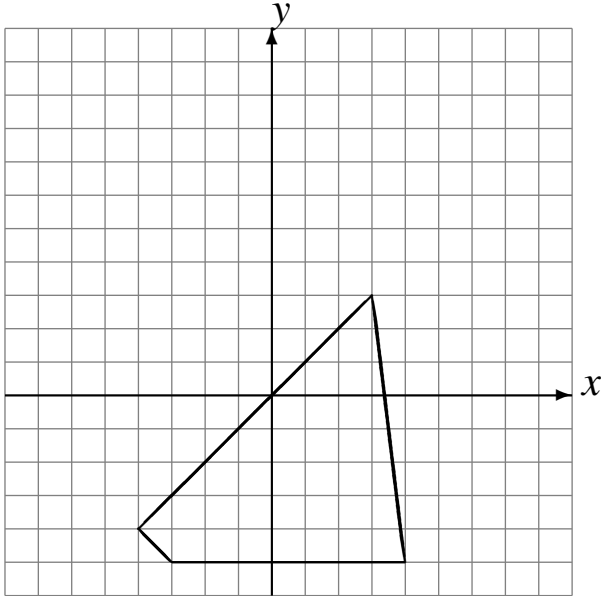


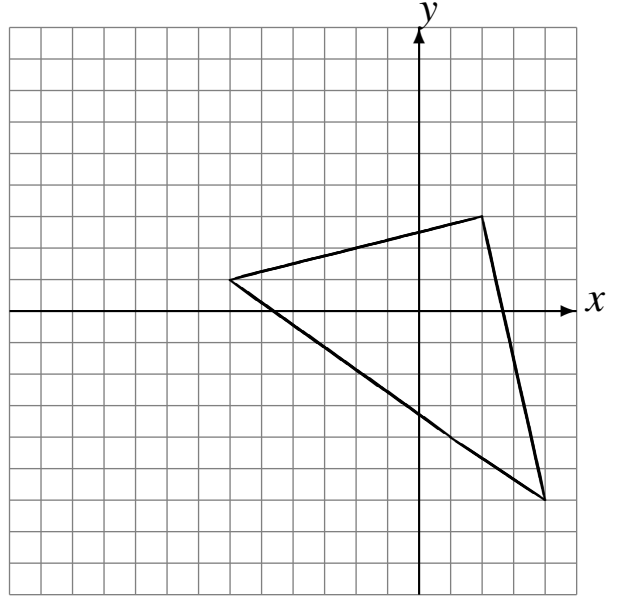
# Translations (A)

Dessinez l'image finale et les étapes intermédiaires de la translation décrite.

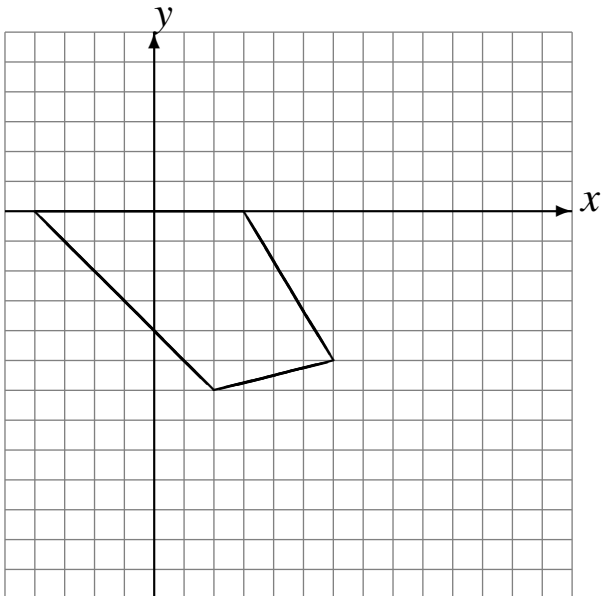
Déplacement de la figure par  $(1, 5)$ .  
Déplacement de la figure par  $(-2, 2)$ .



Déplacement de la figure par  $(-6, 3)$ .  
Déplacement de la figure par  $(5, -4)$ .



Déplacement de la figure par  $(6, -2)$ .  
Déplacement de la figure par  $(1, 0)$ .



Déplacement de la figure par  $(5, 4)$ .  
Déplacement de la figure par  $(-6, 4)$ .

