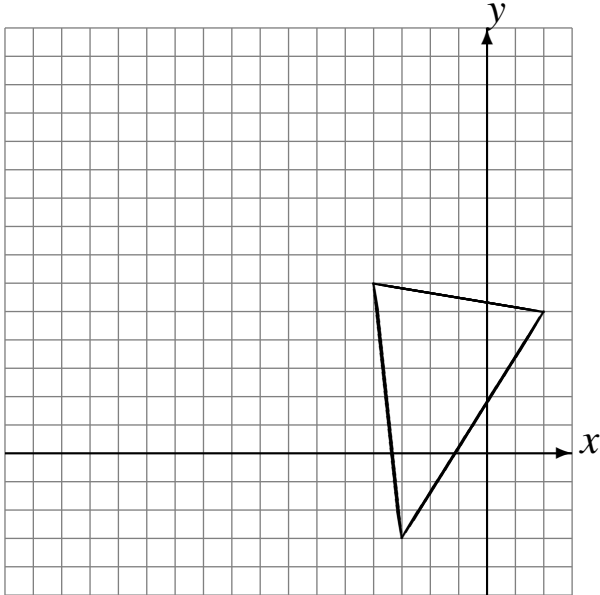


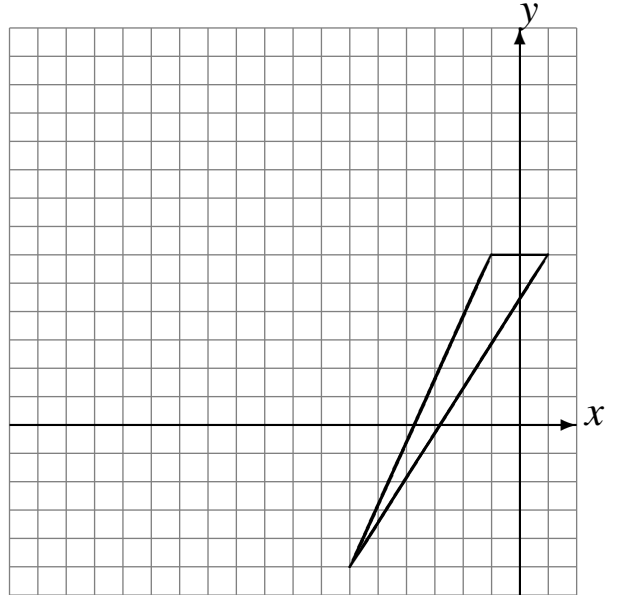
# Translations (G)

Dessinez l'image finale et les étapes intermédiaires de la translation décrite.

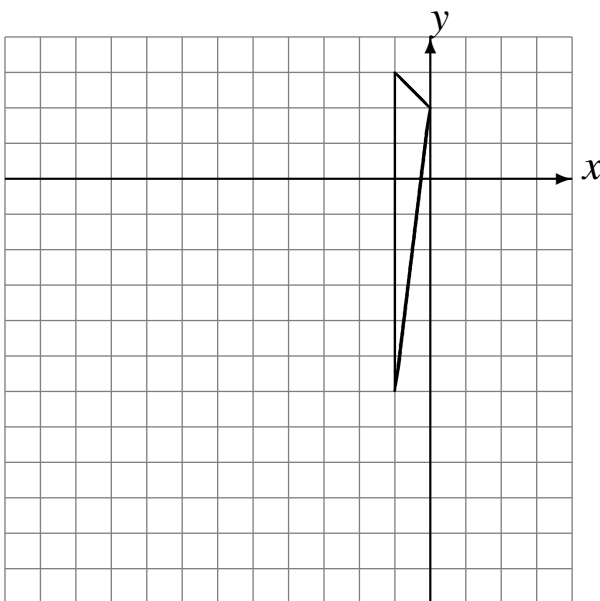
Déplacement de la figure par  $(-6, 6)$ .  
Déplacement de la figure par  $(-1, -1)$ .  
Déplacement de la figure par  $(-5, -3)$ .



Déplacement de la figure par  $(-5, 6)$ .  
Déplacement de la figure par  $(-6, 1)$ .  
Déplacement de la figure par  $(2, 0)$ .



Déplacement de la figure par  $(-5, -5)$ .  
Déplacement de la figure par  $(-2, 0)$ .  
Déplacement de la figure par  $(4, 3)$ .



Déplacement de la figure par  $(6, -3)$ .  
Déplacement de la figure par  $(-1, 5)$ .  
Déplacement de la figure par  $(-1, -2)$ .

