

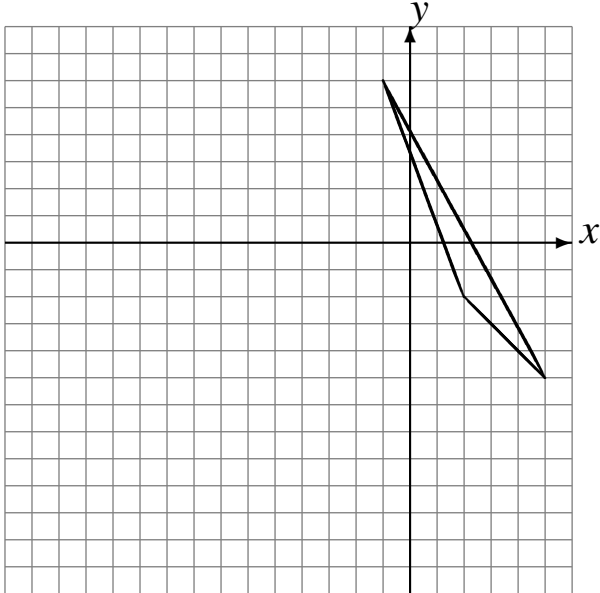
# Translations (F)

Dessinez l'image finale et les étapes intermédiaires de la translation décrite.

Déplacement de la figure par  $(-6, -5)$ .

Déplacement de la figure par  $(-3, -2)$ .

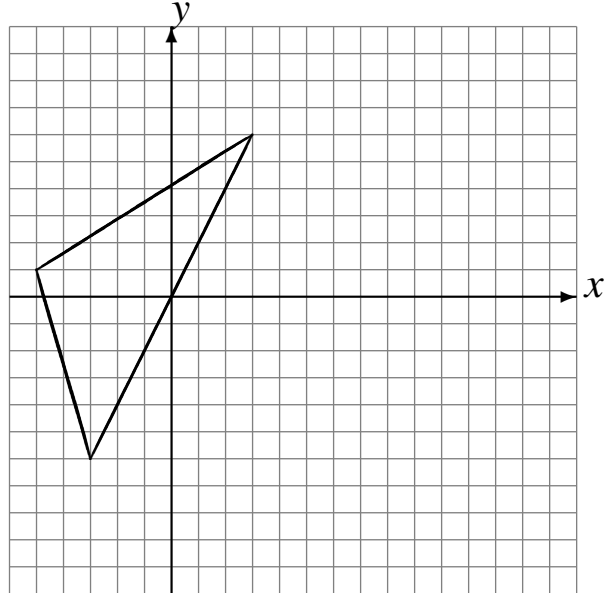
Déplacement de la figure par  $(-4, 0)$ .



Déplacement de la figure par  $(5, -1)$ .

Déplacement de la figure par  $(6, 2)$ .

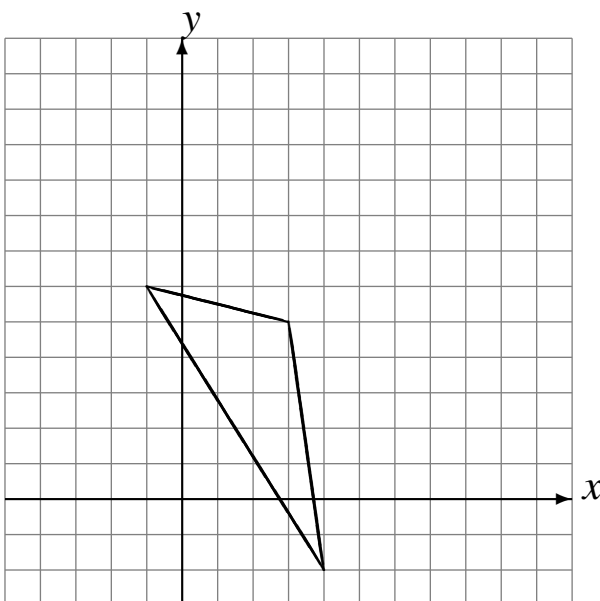
Déplacement de la figure par  $(-6, -4)$ .



Déplacement de la figure par  $(-1, 2)$ .

Déplacement de la figure par  $(4, -1)$ .

Déplacement de la figure par  $(0, 5)$ .



Déplacement de la figure par  $(2, -6)$ .

Déplacement de la figure par  $(4, -4)$ .

Déplacement de la figure par  $(5, -3)$ .

