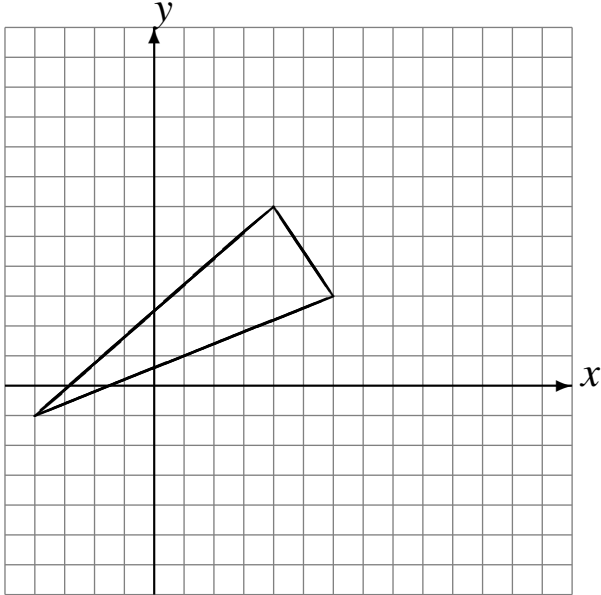


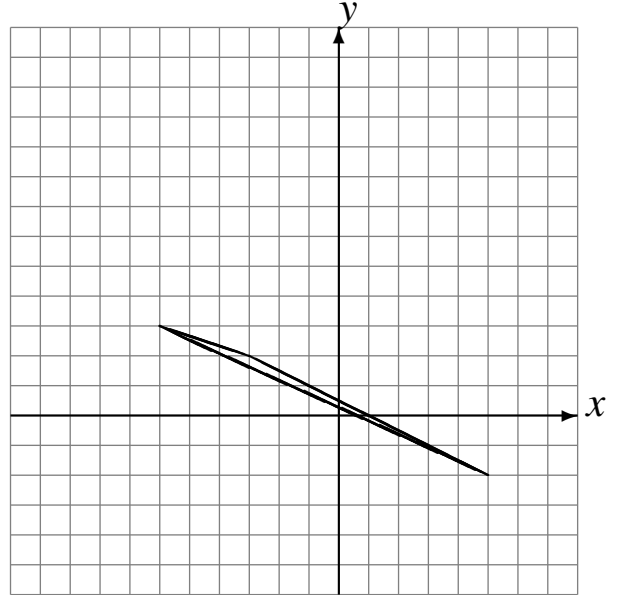
Translations (E)

Dessinez l'image finale et les étapes intermédiaires de la translation décrite.

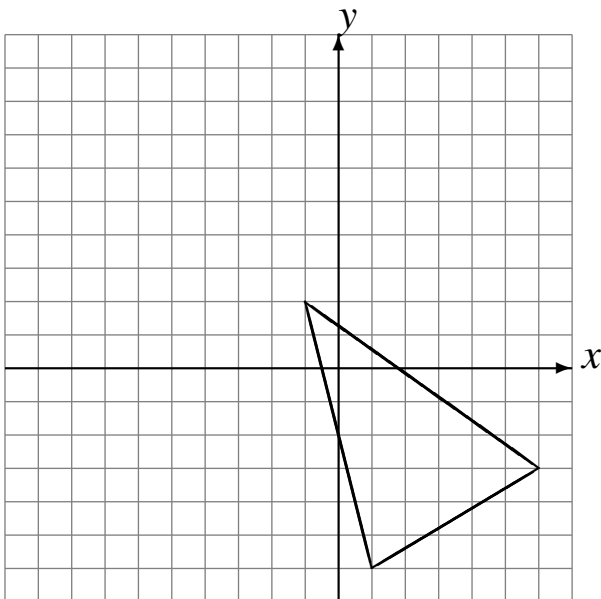
Déplacement de la figure par $(4, -2)$.
Déplacement de la figure par $(3, 3)$.
Déplacement de la figure par $(-6, -1)$.



Déplacement de la figure par $(1, 5)$.
Déplacement de la figure par $(-5, 0)$.
Déplacement de la figure par $(6, -3)$.



Déplacement de la figure par $(0, 4)$.
Déplacement de la figure par $(-5, 3)$.
Déplacement de la figure par $(-3, -6)$.



Déplacement de la figure par $(-3, 2)$.
Déplacement de la figure par $(2, -2)$.
Déplacement de la figure par $(-3, -3)$.

