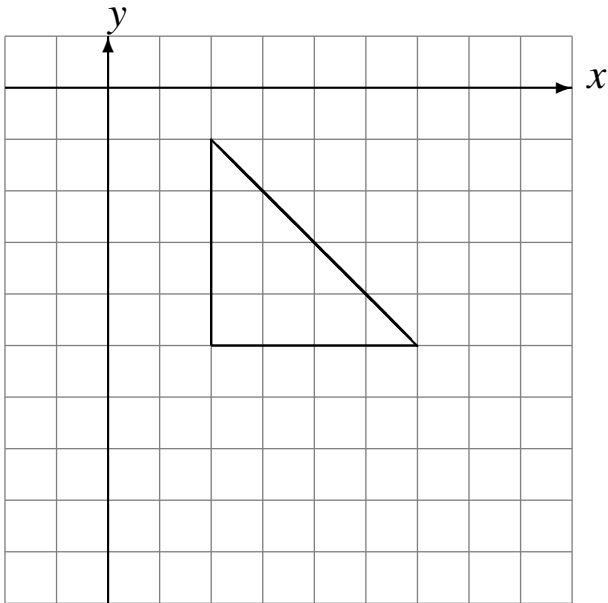


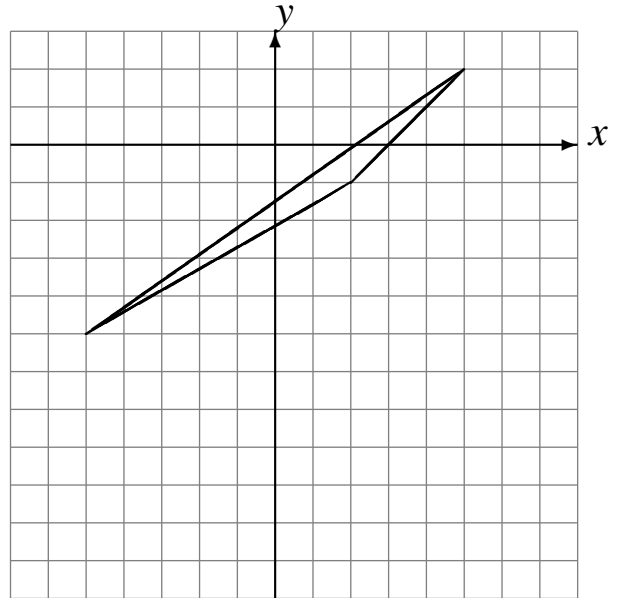
# Translations (C)

Dessinez l'image finale et les étapes intermédiaires de la translation décrite.

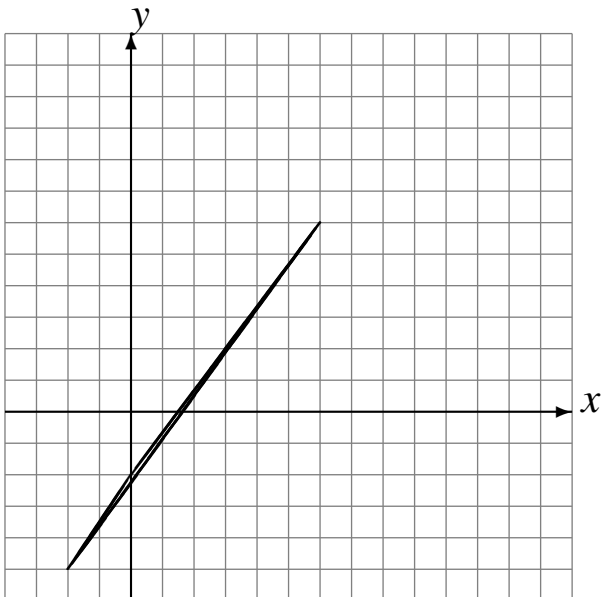
Déplacement de la figure par  $(-3, -4)$ .  
Déplacement de la figure par  $(5, 2)$ .  
Déplacement de la figure par  $(-1, 3)$ .



Déplacement de la figure par  $(1, -1)$ .  
Déplacement de la figure par  $(-2, -5)$ .  
Déplacement de la figure par  $(1, 6)$ .



Déplacement de la figure par  $(6, 3)$ .  
Déplacement de la figure par  $(-1, 1)$ .  
Déplacement de la figure par  $(0, 1)$ .



Déplacement de la figure par  $(2, -1)$ .  
Déplacement de la figure par  $(2, 1)$ .  
Déplacement de la figure par  $(-3, -2)$ .

