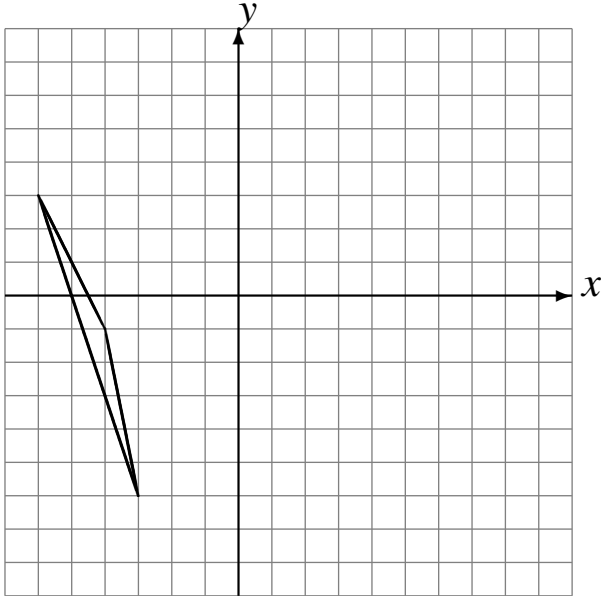


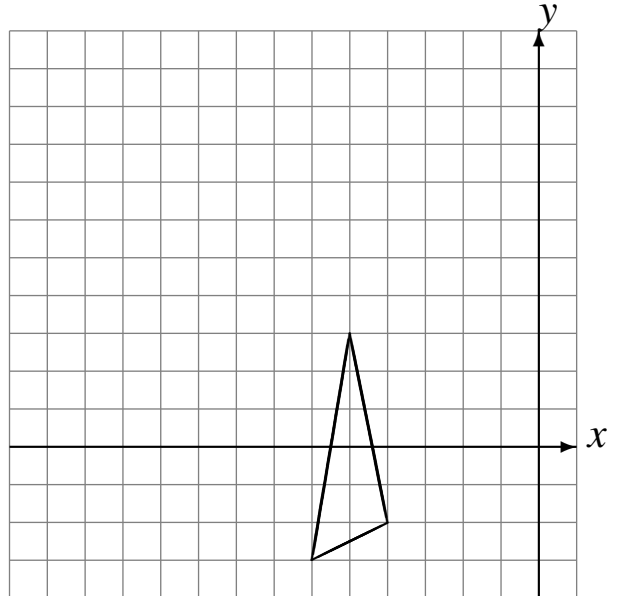
# Translations (I)

Dessinez l'image finale et les étapes intermédiaires de la translation décrite.

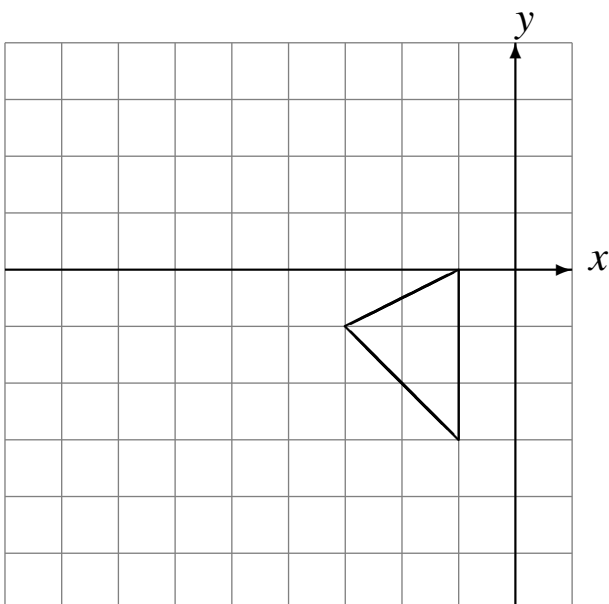
Déplacement de la figure par  $(5, 4)$ .  
Déplacement de la figure par  $(6, -6)$ .



Déplacement de la figure par  $(-6, 6)$ .  
Déplacement de la figure par  $(-1, -6)$ .



Déplacement de la figure par  $(-5, -1)$ .  
Déplacement de la figure par  $(4, 2)$ .



Déplacement de la figure par  $(-6, -3)$ .  
Déplacement de la figure par  $(-1, -5)$ .

