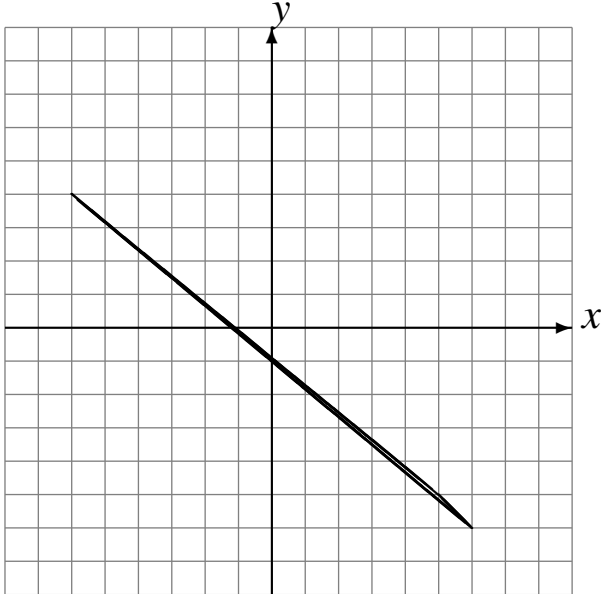


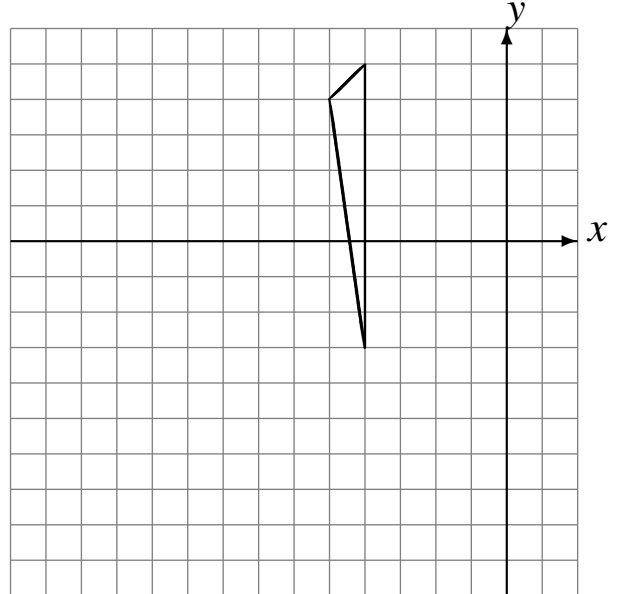
# Translations (C)

Dessinez l'image finale et les étapes intermédiaires de la translation décrite.

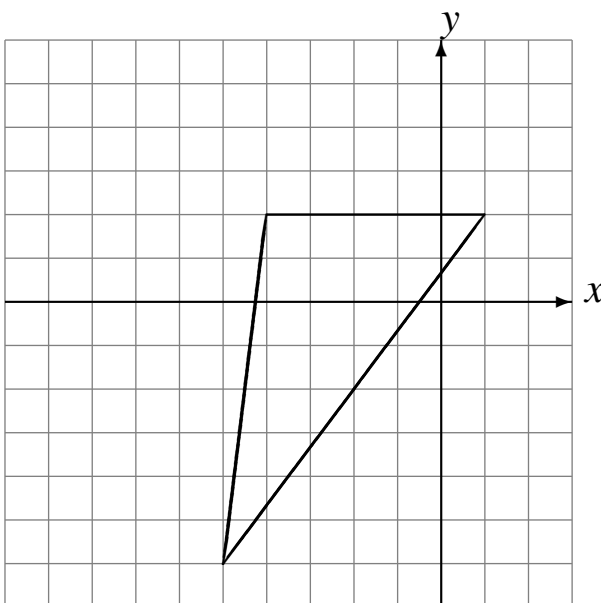
Déplacement de la figure par  $(0, -1)$ .  
Déplacement de la figure par  $(0, 5)$ .



Déplacement de la figure par  $(-6, -6)$ .  
Déplacement de la figure par  $(-1, 0)$ .



Déplacement de la figure par  $(1, 1)$ .  
Déplacement de la figure par  $(-5, 2)$ .



Déplacement de la figure par  $(4, 1)$ .  
Déplacement de la figure par  $(-6, 6)$ .

