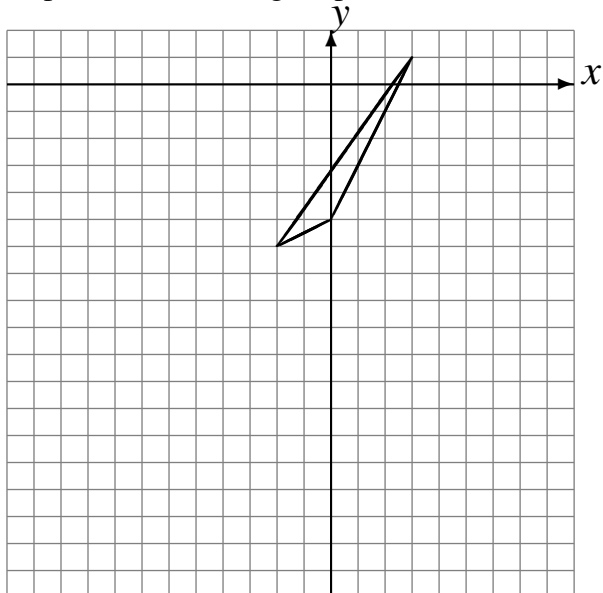


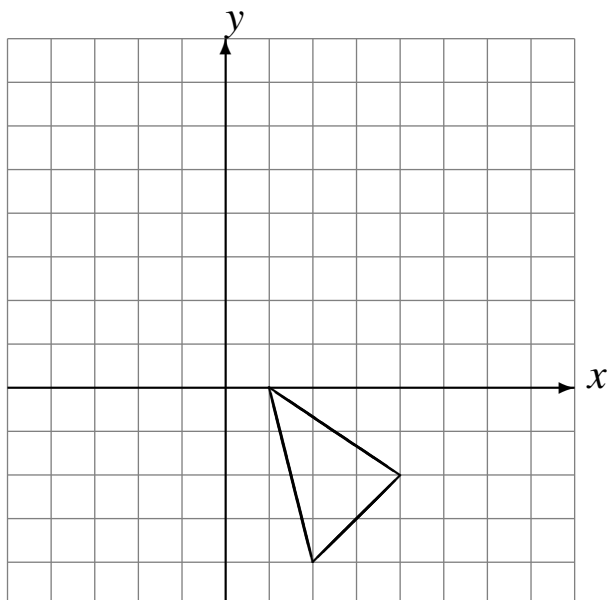
Translations (B)

Dessinez l'image finale et les étapes intermédiaires de la translation décrite.

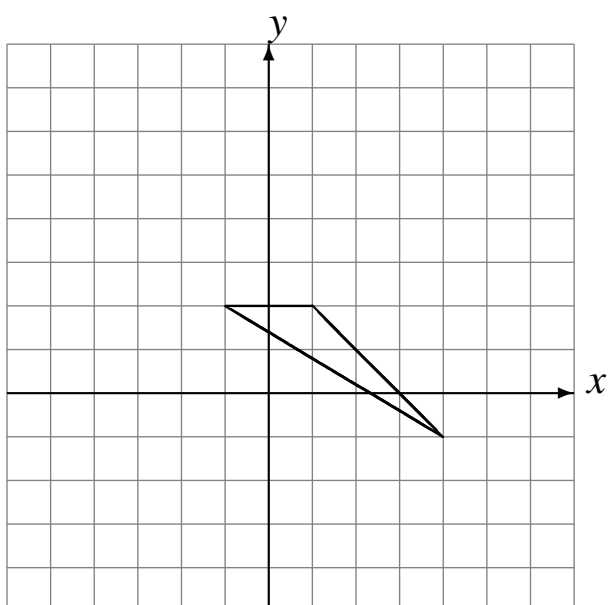
Déplacement de la figure par $(-3, -6)$.
Déplacement de la figure par $(-2, -6)$.



Déplacement de la figure par $(-1, 1)$.
Déplacement de la figure par $(-1, 6)$.



Déplacement de la figure par $(2, -2)$.
Déplacement de la figure par $(-6, 6)$.



Déplacement de la figure par $(-6, -5)$.
Déplacement de la figure par $(2, -1)$.

