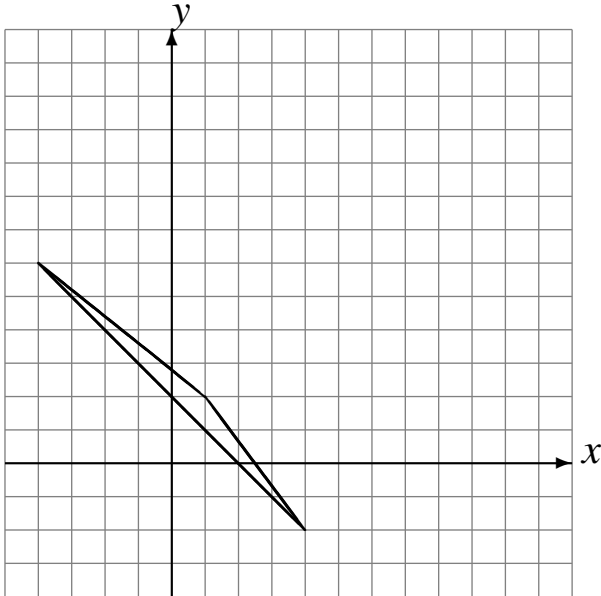


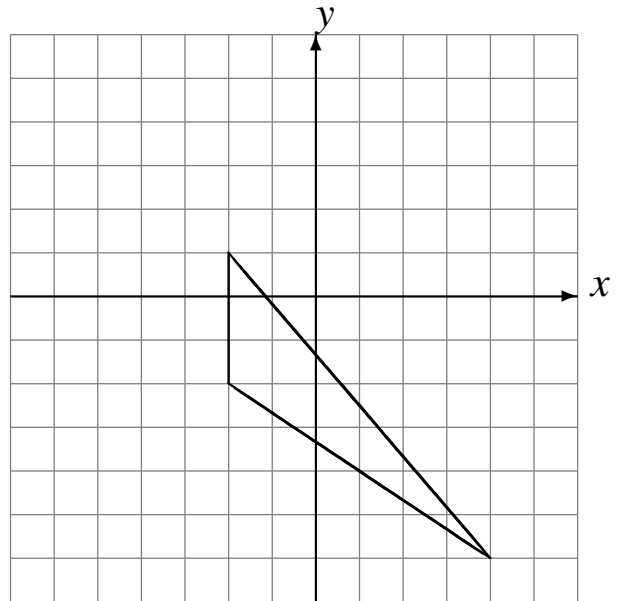
Translations (A)

Dessinez l'image finale et les étapes intermédiaires de la translation décrite.

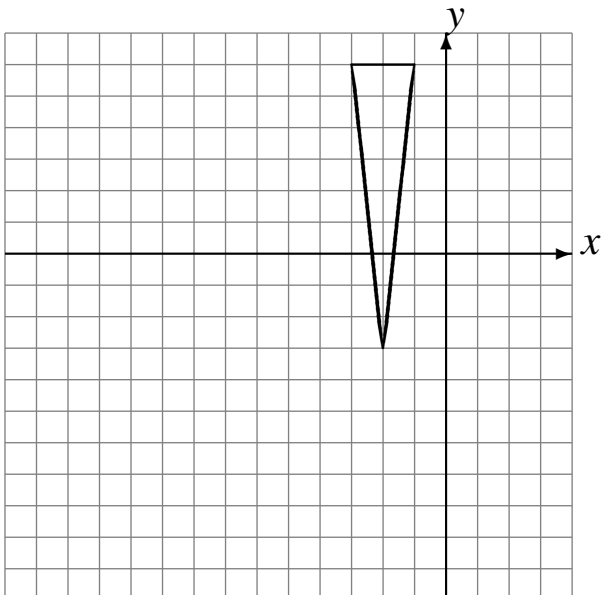
Déplacement de la figure par $(1, 0)$.
Déplacement de la figure par $(6, 5)$.



Déplacement de la figure par $(-4, 4)$.
Déplacement de la figure par $(2, -3)$.



Déplacement de la figure par $(-5, -5)$.
Déplacement de la figure par $(-3, -2)$.



Déplacement de la figure par $(0, 2)$.
Déplacement de la figure par $(1, -5)$.

