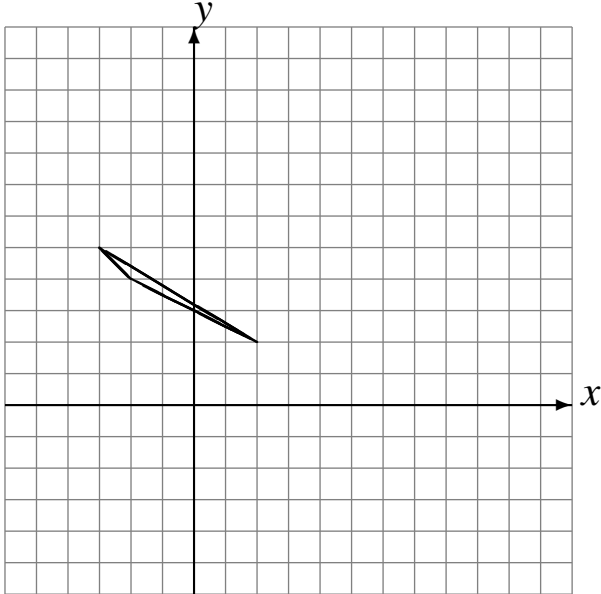


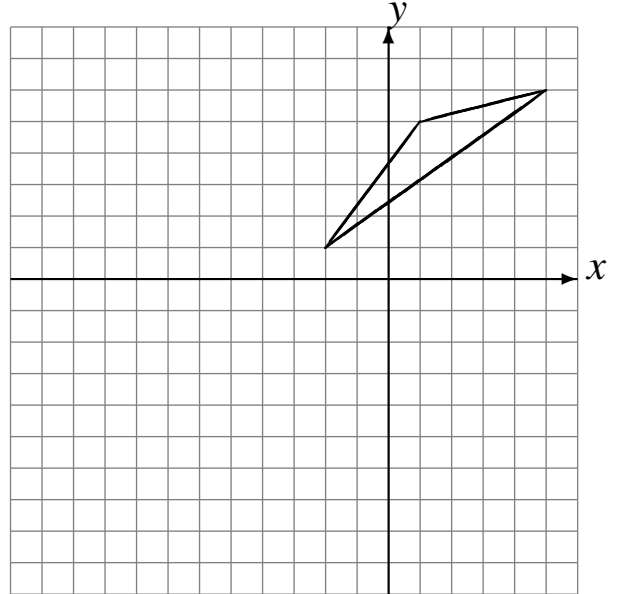
Transformations Géométriques (B)

Dessinez l'image finale et les étapes intermédiaires des transformations décrites.

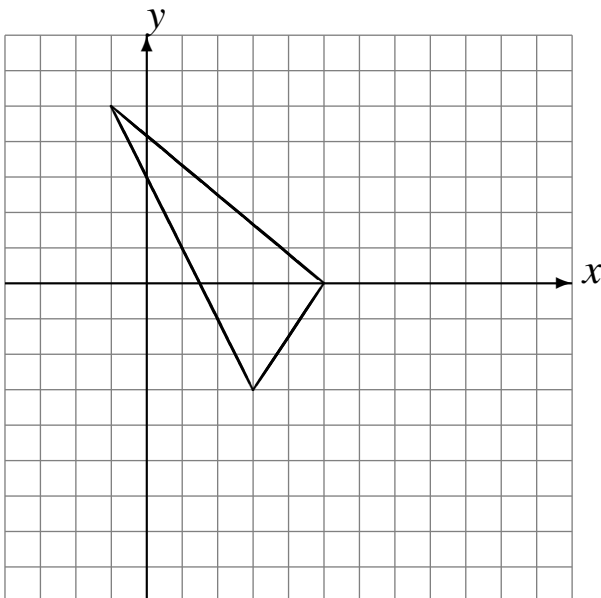
Déplacement de la figure par $(-2, -1)$.
Réflexion par rapport à l'axe $x = 3$.



Réflexion par rapport à l'axe $y = -1$.
Rotation de 180° autour du point $(-3, -1)$.



Déplacement de la figure par $(1, 1)$.
Déplacement de la figure par $(3, -6)$.



Réflexion par rapport à l'axe $x = -1$.
Déplacement de la figure par $(3, 4)$.

