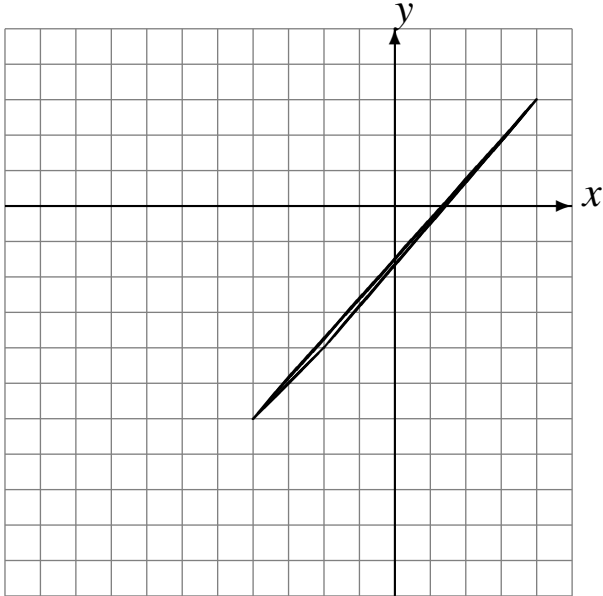


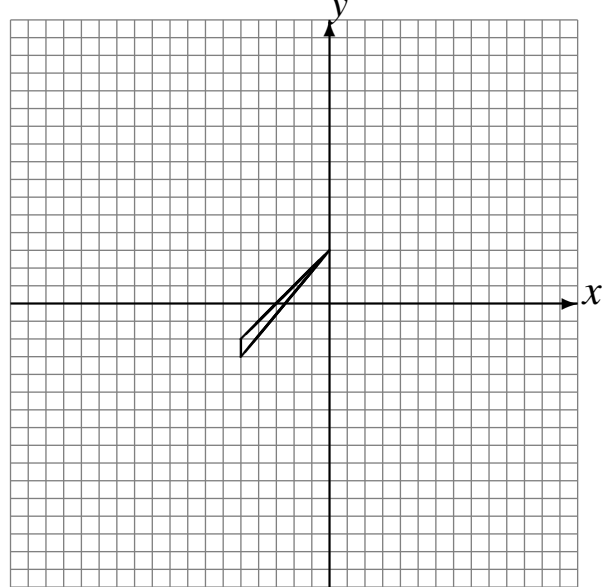
# Réflexions (I)

Dessinez l'image finale et les étapes intermédiaires de la réflexion décrite.

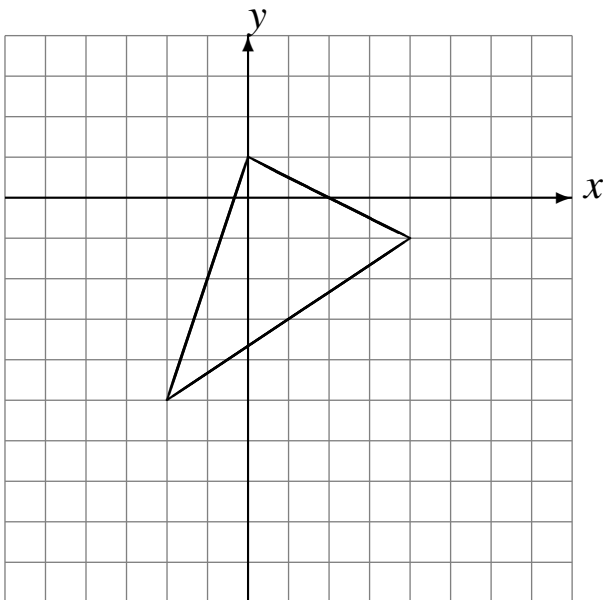
Réflexion par rapport à l'axe  $x = -3$ .  
Réflexion par rapport à l'axe  $y = -3$ .



Réflexion par rapport à l'axe  $x = 4$ .  
Réflexion par rapport à l'axe  $x = -2$ .



Réflexion par rapport à l'axe  $y = -1$ .  
Réflexion par rapport à l'axe  $y = -3$ .



Réflexion par rapport à l'axe  $y = -3$ .  
Réflexion par rapport à l'axe  $x = -1$ .

